



# RAILWAY RECRUITMENT BOARDS

## रेलवे भर्ती बोर्ड

### RRB NTPC 30th April 2016 Shift 3

Roll No:	
Participants Name:	
Test Center Name:	
Test Date:	30/04/2016
Test Time:	4:00 PM - 5:30 PM
Subject:	RRB NTPC Graduate

- Options shown in green color with a tick icon are correct
- Chosen option on top right of the question indicates the option selected by the candidate

Q.1 पेय जल आपूर्ति में कोलिफॉर्म (Coliform) की उपस्थिति \_\_\_\_\_ का लक्षण है।

- फ्लोराइड संदूषण (Fluoride contamination)
- फॉस्फोरस संदूषण (Phosphorous contamination)
- पानी के स्रोत का खारापन (Salination of water source)
- मानव अपशिष्ट से संदूषण (Contamination by human waste)

Ans  1. A  
 2. C  
 3. B  
 4. D

Question ID : 2055234238

Status : Not Attempted

Chosen Option : --

Q.2 संसद और राज्य विधान सभा की विधायी अतिरेक की जांच \_\_\_\_\_ के ज़रिए की जाती है।

- आर्थिक समीक्षा
- उच्चतम न्यायालय
- न्यायिक समीक्षा
- विधान परिषद

Ans  1. C  
 2. D  
 3. B  
 4. A

Question ID : 2055234239

Status : Answered

Chosen Option : 1

Q.3 उछाल (Buoyancy) सिद्धांत के आधार पर जहाज पानी में तैरते हैं। सर्वप्रथम इस सिद्धांत की पहचान करने का श्रेय किस वैज्ञानिक को दिया जाता है?

- नील्स बोह्र (Niels Bohr)
- केप्लर (Kepler)
- आर्किमिडीज (Archimedes)
- केन रूथरफोर्ड (Ken Rutherford)

Ans  1. A  
 2. D  
 3. B  
 4. C

Question ID : 2055234231

Status : Answered

Chosen Option : 1

Q.4

Question ID : 2055234303

निम्नलिखित चार युग्मों शब्दों में से तीन शब्द किसी न किसी प्रकार एक समान हैं और एक शब्द भिन्न है। वह कौन सा शब्द है जो अन्य तीन से भिन्न है?

- A. Rat
- B. Squirrel
- C. Mongoose
- D. Mole

- Ans
- 1. A
  - 2. D
  - 3. C
  - 4. B

Status : **Answered**

Chosen Option : 3

Q.5 जब कुल उपयोगिता अधिकतम हो जाती है तो सीमांत उपयोगिता \_\_\_\_\_ हो जाती है।

- A. नकारात्मक
- B. शून्य
- C. औसत
- D. न्यूनतम

- Ans
- 1. C
  - 2. A
  - 3. D
  - 4. B

Question ID : **2055234252**Status : **Not Attempted**

Chosen Option : --

Q.6 Which was the first satellite launched into the Space?

- A. Vostok
- B. Sputnik
- C. Explorer 1
- D. Vanguard

- Ans
- 1. D
  - 2. A
  - 3. C
  - 4. B

Question ID : **2055234244**Status : **Answered**

Chosen Option : 3

Q.7 Divide Rs. 126 in the ratio 2:3:4:5. The rupees in the respective ratios are given by:

- A. 18, 27, 37 & 44
- B. 18, 27, 35 & 46
- C. 18, 27, 36 & 45
- D. 18, 28, 35 & 45

- Ans
- 1. D
  - 2. A
  - 3. C
  - 4. B

Question ID : **2055234272**Status : **Answered**

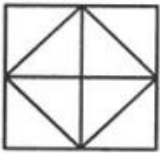
Chosen Option : 3

Q.8

Question ID : **2055234310**Status : **Answered**

Chosen Option : 4

Look carefully at the below given figure



The total number of convex pentagons in the figure is

- A. 8
- B. 10
- C. 12
- D. 14

Ans  1. B  
 2. D  
 3. C  
 4. A

Q.9 The largest Union Territory (UT) in the country in terms of population is (consider Delhi as National Capital Territory-NCT and not as a UT)

- A. Daman and Diu
- B. Puducherry
- C. Chandigarh
- D. Andaman and Nicobar Island

Ans  1. A  
 2. C  
 3. B  
 4. D

Question ID : 2055234246

Status : Not Attempted

Chosen Option : --

Q.10 Which acid would you found in a lemon?

- A. Acetic Acid
- B. Tartaric Acid
- C. Salicylic Acid
- D. Citric Acid

Ans  1. C  
 2. B  
 3. D  
 4. A

Question ID : 2055234233

Status : Answered

Chosen Option : 3

Q.11 Which country lifted the ban on oil exports after 40 years in December 2015?

- A. Russia
- B. USA
- C. Iceland
- D. India

Ans  1. B  
 2. D  
 3. A  
 4. C

Question ID : 2055234224

Status : Answered

Chosen Option : 3

Q.12

Question ID : 2055234232

AC and DC are forms of

- A. Flow of charge
- B. Flow of voltages
- C. Flow of water
- D. Flow of Air

Ans  1. A

2. B

3. C

4. D

Status : Answered  
Chosen Option : 2

Q.13 What is the strength of the Lok Sabha under the current laws?

- A. 543
- B. 545
- C. 544
- D. 542

Ans  1. A

2. D

3. C

4. B

Question ID : 2055234247  
Status : Not Attempted  
Chosen Option : --

Q.14 पौधों के मामले में, मिट्टी से सोखा गया नाइट्रेट (nitrates) :

- A. यूरिया (Urea) में परिवर्तित हो जाता है
- B. मुक्त नाइट्रोजन (Nitrogen) में परिवर्तित हो जाता है
- C. अमीनो एसिड (amino acids) में परिवर्तित हो जाता है
- D. अमोनिया (Ammonia) में परिवर्तित हो जाता है

Ans  1. C

2. B

3. D

4. A

Question ID : 2055234229  
Status : Answered  
Chosen Option : 4

Q.15 By how many minutes is the IST ahead of the PKT?

- A. 25 minutes
- B. 35 minutes
- C. 40 minutes
- D. 30 minutes

Ans  1. A

2. D

3. B

4. C

Question ID : 2055234236  
Status : Answered  
Chosen Option : 2

Q.16

Question ID : 2055234263  
Status : Answered  
Chosen Option : 4

Compute of  $50688 / 256 / 9 = ?$

- A. 21
- B. 1782
- C. 22
- D. 1872

Ans  1. A  
 2. D  
 3. C  
 4. B

Q.17 The value of  $0.968 \div 0.11 = ?$

- A. 88
- B. 8.8
- C. 0.88
- D. 8

Ans  1. B  
 2. D  
 3. A  
 4. C

Question ID : 2055234266

Status : Answered

Chosen Option : 1

Q.18 मारीच (Maareech) क्या है?

- A. नवंबर 2015 में भारतीय नौसेना को सौंपी गई उन्नत टॉरपिडो (Torpedo) रक्षा प्रणाली
- B. भारतीय वायु सेना के लिए विकसित किया जा रहा नया प्रशिक्षण विमान
- C. भारत में शुरू की जा रही ड्राइवर-रहित कार
- D. भारतीय वायु सेना का ड्रोन

Ans  1. D  
 2. B  
 3. A  
 4. C

Question ID : 2055234223

Status : Answered

Chosen Option : 3

Q.19 Mr. Royleen sold a bus for Rs. 850 with a loss of 15%. At what price should the bus be sold to get a profit of 15%?

- A. 1160
- B. 1130
- C. 1120
- D. 1150

Ans  1. A  
 2. C  
 3. B  
 4. D

Question ID : 2055234279

Status : Not Attempted

Chosen Option : --

Comprehension:

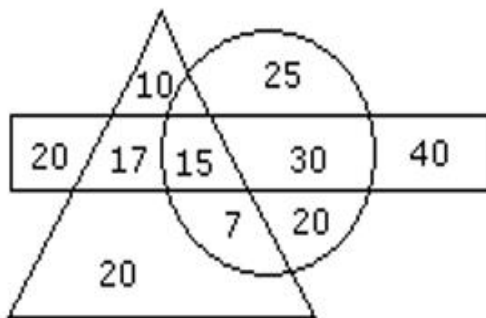
Study the following Venn diagram and answer each of the following questions :

In the Venn diagram,

Triangle represents persons who take Maaza;

Circle represents persons who take Fanta;

Rectangle represents persons who take Slice.



SubQuestion No : 20

Q.2 How many persons who take Maaza and Slice but not Fanta?

- A. 20
- B. 17
- C. 25
- D. 15

Ans  1. A  
 2. C  
 3. D  
 4. B

Question ID : 2055234315

Status : Answered

Chosen Option : 4

Comprehension:

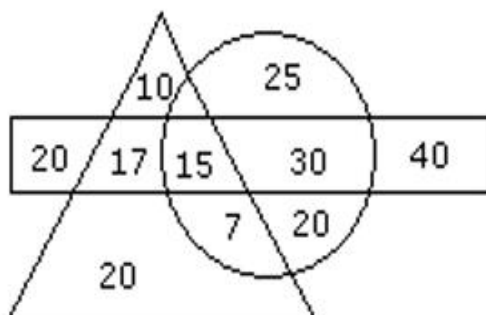
Study the following Venn diagram and answer each of the following questions :

In the Venn diagram,

Triangle represents persons who take Maaza;

Circle represents persons who take Fanta;

Rectangle represents persons who take Slice.



SubQuestion No : 21

Q.2  
1

Question ID : 2055234317

How many persons take Slice?

- A. 100
- B. 82
- C. 92
- D. 122

Ans  1. D

2. A

3. B

4. C

Status : Answered

Chosen Option : 1

Comprehension:

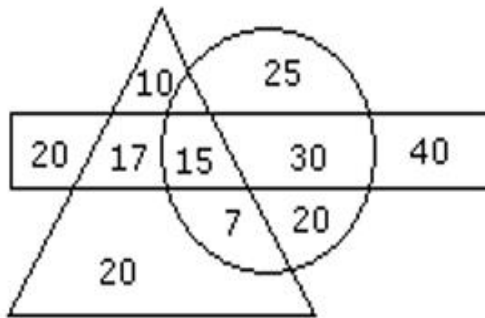
Study the following Venn diagram and answer each of the following questions :

In the Venn diagram,

Triangle represents persons who take Maaza;

Circle represents persons who take Fanta;

Rectangle represents persons who take Slice.



SubQuestion No : 22

Q.2 How many persons are there who take both Maaza and Fanta but not Slice?

2

- A. 22
- B. 17
- C. 7
- D. 20

Ans  1. D

2. A

3. C

4. B

Question ID : 2055234316

Status : Answered

Chosen Option : 3

Q.23 A, P, R, X, S and Z are sitting in a row. S and Z are in the centre. A and P are at the ends. R is sitting to the left of A. Who is to the right of P?

- A. A
- B. X
- C. S
- D. Z

Ans  1. C

2. B

3. A

4. D

Question ID : 2055234308

Status : Answered

Chosen Option : 2





**रेलवे भर्ती बोर्ड (आरआरबी)  
परीक्षा अध्ययन सामग्री**

- 100% Syllabus Covered
- 4 Comprehensive Books
- 1000 Pages
- Current Affairs (PDF)
- Practice MCQs
- Support and Guidance

Only  
~~₹6,000/-~~  
**₹1,995/-**  
70% Off



www.rrbportal.com

### प्रिय अभ्यर्थियों,

आज इस गलाकाट प्रतिस्पर्धा के दौर में, हर जगह, हर क्षेत्र में मारामारी है। बात अगर सरकारी नौकरी की हो तो प्रतिस्पर्धा और भी कड़ी हो जाती है। जैसा की आप सभी जानते हैं RRBPORTAL विगत वर्षों से आप सबों को अंग्रेजी माध्यम में एक समग्र पाठ्यक्रम एवं मार्गदर्शन उपलब्ध करा रहा है। हमारे अध्ययन सामग्री की सफलता की दर करीब 70% है। विगत कुछ वर्षों की सरकारी विज्ञप्तियों (VACANCIES) पर नजर डालें तो आप देखेंगे की सर्वाधिक संख्या Railway के विज्ञप्तियों की है, और उसी अनुपात में भीड़ भी।

मित्रों इस परीक्षा में अंग्रेजी एवं हिंदी माध्यम के छात्र लगभग समान संख्या में सम्मिलित होते हैं, लेकिन हिंदी माध्यम से तैयारी करने वाले छात्रों के साथ सबसे बड़ी समस्या विश्वसनीय अध्ययन सामग्री एवं सही मार्गदर्शन की है।

आपकी इन्हीं समस्याओं और मांग को विचार में रखकर हमने नववर्ष में आपको हिंदी माध्यम में रेलवे भर्ती बोर्ड (आरआरबी), अध्ययन सामग्री उपलब्ध कराने का निर्णय लिया है। मित्रों हमने इस बात का पूरा ध्यान रखा है की आपको पाठ्यक्रम के अनुसार सारी चीजें एक जगह मिलें। हमने व्यवस्थित तरीके से लगभग 800पृष्ठों में इस अध्ययन सामग्री को परीक्षोपयोगी बनाया है।

### आप क्या प्राप्त करेंगे?

- माध्यम: हिन्दी
- 100 प्रतिशत पाठ्यक्रम
- 838 पृष्ठ
- कुल 6 पुस्तिकायें
- Guidance & Support from Our Experts

**Price of the Kit:**

**Rs. 4,000**

**Rs. 1,995/-**  
(Limited time Offer)



**Order Online (100% Safe)**

**अन्य भुगतान विकल्प (Offline Payment Options)**

**50%  
OFF**

**CLICK HERE**

**Disclaimer: RRB EXAM PORTAL वेबसाइट किसी भी प्रकार से रेलवे भर्ती बोर्ड (RRB) के साथ संबद्ध नहीं है, रेलवे भर्ती बोर्ड एवं भारतीय रेलवे की आधिकारिक वेबसाइट पर जाने के लिए [www.rrcb.gov.in](http://www.rrcb.gov.in) पर विजिट करें।**



Q.24 If the product of two numbers is 3276 and their LCM is 63 then their HCF is:

- A. 32
- B. 76
- C. 52
- D. 53

Ans  1. A  
 2. B  
 3. C  
 4. D

Question ID : 2055234270

Status : Answered

Chosen Option : 3

Q.25 निम्नलिखित चार युग्मों में से तीन युग्म किसी न किसी प्रकार एक समान हैं और एक युग्म भिन्न है। वह कौन सा युग्म है जो अन्य तीन से भिन्न है?

- A. Horse : Neigh
- B. Owls : Hoot
- C. Goats : Bleat
- D. Bees : Hiss

Ans  1. B  
 2. A  
 3. D  
 4. C

Question ID : 2055234301

Status : Answered

Chosen Option : 4

Q.26 Read the statements and select a conclusion from the given alternatives:

**Statements:**

- All phones are stones
- Some stones are ropes
- All ropes are windows

**Conclusions:**

1. Some phones are windows
2. Some windows are stones
3. Some phones are not windows
4. All windows are ropes

**Choose the conclusion which best follow/s the statements**

- A. Only 1 and 2 follows
- B. Only 1,2 and 3 follows
- C. Only either 1 or 3 and 2 follow
- D. Only either 1 or 3 and 4 follow

Ans  1. A  
 2. D  
 3. B  
 4. C

Question ID : 2055234312

Status : Answered

Chosen Option : 3

Q.27 The number of sides of a regular polygon whose interior angles are each  $108^\circ$  is:

- A. 6
- B. 15
- C. 5
- D. 7

Ans  1. D  
 2. A  
 3. C  
 4. B

Question ID : 2055234285

Status : Not Attempted

Chosen Option : --

Q.28 एक वर्ग के विकर्णों की लम्बाई 10 से.मी. है, तो वर्ग की भुजा सेमी में ज्ञात कीजिए:

- A.  $\sqrt{50}$   
 B.  $\pm\sqrt{50}$   
 C. 5  
 D.  $10\sqrt{2}$

Ans  1. B  
 2. A  
 3. C  
 4. D

Question ID : 2055234286

Status : Answered

Chosen Option : 4

Q.29 If in a certain language, HEAVEN is coded as IFBWFO, how is HARVARD coded in that code?

- A. IBSWBES  
 B. IBBESSW  
 C. IBSWBSE  
 D. SWIBBES

Ans  1. D  
 2. B  
 3. C  
 4. A

Question ID : 2055234296

Status : Answered

Chosen Option : 3

Q.30 बिल्किवस एधी (Bilquis Edhi) \_\_\_\_\_ हैं।

- A. भारत में चाइल्ड लाइन की संस्थापक  
 B. एधी (Edhi) संस्था पाकिस्तान की संस्थापक  
 C. भारतीय महिला क्रिकेट टीम की सलाहकार  
 D. ईरानी कार्यकर्ता

Ans  1. B  
 2. D  
 3. A  
 4. C

Question ID : 2055234241

Status : Answered

Chosen Option : 1

Q.31 6 छड़ों की लंबाइयों का माध्य 44.2 से.मी. है। उनमें से 5 छड़ों की लंबाइयों का माध्य 46 सेमी है तो 6ठी छड़ की लम्बाई क्या होगी?

- A. 35  
 B. 35.2  
 C. 35.1  
 D. 35.5

Ans  1. B  
 2. A  
 3. D  
 4. C

Question ID : 2055234291

Status : Not Attempted

Chosen Option : --

Q.32

Question ID : 2055234313

Status : Answered

Chosen Option : 4

Read the statements and select a conclusion from the given alternatives:

**Statements:**

All beds are pens.  
Some beds are cots

**Conclusions:**

1. All pens are beds.
2. Some cots are pens.
3. All cots are pens.
4. Some cots are definitely not pens

**Choose the conclusion which best follow/s the statements**

- A. Only 1 and 2 follow
- B. Only 2 and 3 follow
- C. Only 2 follows
- D. Only 4 follows

- Ans  1. C  
 2. A  
 3. D  
 4. B

**Q.33** एक घर से दो बसें 15 मिनट के अन्तराल पर 25 कि.मी./घंटा की गति से चलती हैं। घर की विपरीत दिशा से आ रही एक महिला को और कितनी ज्यादा गति (कि.मी./घंटा) से चलना पड़ेगा ताकि बसें 10 मिनट के अंतराल पर मिल जाएँ?

- A. 12
- B. 12.25
- C. 12.5
- D. 12.75

- Ans  1. C  
 2. D  
 3. B  
 4. A

Question ID : 2055234275

Status : Not Attempted

Chosen Option : --

**Q.34** Direction: Read the statements and select a conclusion from the given alternatives:

**Statement:**

Some of the engineers are very smart. Suman is studying in second year of engineering..

**Conclusions:**

- I) Suman is very smart.
  - II) Suman has a bright future.
- A. Only conclusion I follows
  - B. Only conclusion II follows
  - C. Either I or II follows
  - D. Neither I nor II follows

- Ans  1. D  
 2. A  
 3. C  
 4. B

Question ID : 2055234323

Status : Answered

Chosen Option : 3

**Q.35** Who was the first Muslim President of the Indian National Congress?

- A. Rahimtulla M Sayani
- B. Nawab Sayed Mohammad Bahadur
- C. Badruddin Tyabji
- D. Abul Kalam Azad

- Ans  1. D

Question ID : 2055234248

Status : Answered

Chosen Option : 1

✓ 2. C

✗ 3. A

✗ 4. B

**Q.36** Direction: Read the statements and select a conclusion from the given alternatives:**Statement:**

Gurgaon is the most expensive city.

**Conclusion:**

I) Chennai is less expensive than Gurgaon.

II) Shimla is the cheapest city.

- A. Only conclusion I follows  
 B. Only conclusion II follows  
 C. Either I or II follows  
 D. Neither I nor II follows

Ans ✗ 1. D

✗ 2. B

✓ 3. A

✗ 4. C

Question ID : 2055234324

Status : Answered

Chosen Option : 1

**Q.37** कंपनी द्वारा वर्तमान में प्रयोग किया जा रहा एप्पल मोनोक्रोम लोगो (logo) किस वर्ष आरंभ किया गया था?

- A. 1977  
 B. 1978  
 C. 1998  
 D. 2001

Ans ✗ 1. A

✓ 2. C

✗ 3. D

✗ 4. B

Question ID : 2055234257

Status : Answered

Chosen Option : 3

**Q.38** Four pair of words are given below out of which three are alike in some manner and one pair is different. Which pair is different from the rest?

- A. Electron : Molecule  
 B. Train : Engine  
 C. House : Room  
 D. Scooter : Gears

Ans ✓ 1. A

✗ 2. C

✗ 3. D

✗ 4. B

Question ID : 2055234302

Status : Answered

Chosen Option : 3

**Q.39** In a certain code language, if TAKE is coded as 7915 and CAT is coded as 792, then CAKE can be coded as (Choose one from the options below).

- A. 5179  
 B. 7951  
 C. 2915  
 D. 5791

Ans 1. D

2. C

3. A

4. B

Note: For this question, discrepancy is found in question/answer. So, Th is question is ignored for all candidates.

Question ID : 2055234294

Status : Answered

Chosen Option : 2

**Q.40**

Question ID : 2055234280

Status : Not Attempted

एक दुकानदार फल खरीदने और बेचने में, कम तौल का उपयोग करके 14% तक धोखा देता है, तो उसका कुल लाभ प्रतिशत में कितना होगा?

- A. 29.25  
B. 29.96  
C. 29.75  
D. 29.5

Ans  1. D  
 2. A  
 3. B  
 4. C

Chosen Option : --

Q.41 रानी ने मागेरेट से कहा, "कल जिस लड़की से मैं समुद्रतट पर मिली वह मेरे मित्र की मां के जीजा की सबसे छोटी पुत्री थी।" लड़की का रानी के मित्र से क्या रिश्ता है?

- A. पुत्री  
B. भतीजी/भांजी  
C. सहेली/दोस्त  
D. चचेरा/ममेरा भाई

Ans  1. D  
 2. B  
 3. C  
 4. A

Question ID : 2055234306

Status : Answered

Chosen Option : 2

Q.42 दी गई संख्याओं में से किसका आरोही क्रम सही है?

A.  $\frac{5}{6}, \frac{11}{12}, \frac{8}{9}$

B.  $\frac{8}{9}, \frac{5}{6}, \frac{11}{12}$

C.  $\frac{5}{6}, \frac{8}{9}, \frac{11}{12}$

D.  $\frac{11}{12}, \frac{8}{9}, \frac{5}{6}$

Ans  1. D  
 2. C  
 3. A  
 4. B

Question ID : 2055234265

Status : Answered

Chosen Option : 2

Q.43 जॉन एक FD में निवेश करता है। यदि 6500 रुपये 6 महीनों के लिए 20% वार्षिक चक्रवृद्धि ब्याज की दर से निवेश किये जाते हैं और यह ब्याज तिमाही चक्रवर्धित होता है, तो परिश्रवता पर उसे कुल कितनी राशि मिलेगी?

- A. 7166.5  
B. 7166.25  
C. 7166.35  
D. 7166

Ans  1. C  
 2. A  
 3. D  
 4. B

Question ID : 2055234278

Status : Answered

Chosen Option : 1

Q.44

Question ID : 2055234228

Status : Answered

एशियन खेल, जिन्हें एशियाड (Asiad) भी कहा जाता है, अखिल महाद्वीपीय बहु-खेल प्रतियोगिता है जिसे आयोजित किया जाता है?

Chosen Option : 4

- A. हर वर्ष
- B. हर पांच वर्ष में
- C. हर चार वर्ष में
- D. हर दूसरे वर्ष में

Ans  1. B  
 2. A  
 3. D  
 4. C

Q.45 Given  $w = -2$ ,  $x = 3$ ,  $y = 0$  &  $z = -\frac{1}{2}$ . Find the value of  $y\left(\frac{x+z}{w}\right)$ .

Question ID : 2055234282

Status : Answered

Chosen Option : 1

- A. 0
- B. -1
- C. 1
- D. 2

Ans  1. A  
 2. D  
 3. B  
 4. C

Q.46 If  $\cot x = \frac{5}{12}$ , then  $\sin x + \operatorname{cosec} x = ?$

Question ID : 2055234288

Status : Not Attempted

Chosen Option : --

- A.  $\frac{17}{13}$
- B.  $\frac{331}{156}$
- C.  $\frac{216}{65}$
- D.  $\frac{313}{156}$

Ans  1. D  
 2. B  
 3. C  
 4. A

Q.47 एक नाविक के रूप में अनिरुद्ध, अश्विन से दोगुना तेज है तथा वे मिलकर एक काम को 14 दिनों में समाप्त करते हैं। अकेला अश्विन कार्य को कितने दिनों में पूरा कर पायेगा?

Question ID : 2055234274

Status : Answered

Chosen Option : 4

- A. 28
- B. 42
- C. 56
- D. 35

Ans  1. D  
 2. C  
 3. B  
 4. A

Q.48

Question ID : 2055234307

एक व्यक्ति की ओर इशारा करते नीतीश कहता है, "उसका एकमात्र भाई मेरी पुत्री के पिता का पिता है"। उस व्यक्ति का नीतीश से क्या रिश्ता है?

- A. पिता
- B. दादा
- C. चाचा
- D. बहनोई

Ans  1. A  
 2. C  
 3. D  
 4. B

Status : Answered

Chosen Option : 1

Q.49 Solve for  $x$  :  $5 - 4x = -3$

- A. -2
- B. 2
- C. 0.5
- D. -0.5

Ans  1. B  
 2. D  
 3. C  
 4. A

Question ID : 2055234284

Status : Answered

Chosen Option : 2

Q.50 HCFCs are:

- A. High Density Chlorofluoro Carbons
- B. Hydro Chlorofluoro Carbons
- C. Hydrated Chlorofluoro Carbons
- D. Heated Chlorofluoro Carbons

Ans  1. B  
 2. C  
 3. A  
 4. D

Question ID : 2055234237

Status : Answered

Chosen Option : 1

Q.51 एक व्यक्ति की ओर इशारा करते हुए टॉम, एंजेलीना से कहता है, "उसकी मां तुम्हारे पिता की एकमात्र पुत्री है"। एंजेलीना का उस व्यक्ति से क्या रिश्ता है?

- A. माँ
- B. बहन
- C. पुत्री
- D. पत्नी

Ans  1. D  
 2. A  
 3. B  
 4. C

Question ID : 2055234305

Status : Answered

Chosen Option : 3

Q.52 बंगाल क्रिकेट एसोसिएशन के अध्यक्ष के रूप में किस भारतीय क्रिकेटर ने जगमोहन डालमिया का स्थान लिया है?

- A. सौरव गांगुली
- B. अरुण लाल
- C. देबाशीष मोहंती
- D. रोहन गावस्कर

Ans  1. C  
 2. A

Question ID : 2055234226

Status : Answered

Chosen Option : 1





**RRB NTPC**

Railway Recruitment Board

## **RRB NTPC (Tier -1 & Tier -2) Exam**

- [RRB NTPC \(Tier -1\) Exam](#)
- [RRB NTPC \(Tier -2\) Exam](#)
- [Exam PAPERS](#)
- [Exam Syllabus](#)
- [Eligibility](#)
- [Medical Fitness](#)
- [RRB Post Preference & Zones List](#)
- [परीक्षा सिलेबस "Exam Syllabus in Hindi"](#)
- [Printed Study Material \(English Medium\)](#)
- [RRB NTPC Exam for Aptitude Test](#)
- [RRB NTPC Exam for Typing Skill Test](#)

[CLICK HERE](#)

**Disclaimer: rrbexamportal.com is not associated with Railway Recruitment Board,  
For RRB official website visit - [www.rrcb.gov.in](http://www.rrcb.gov.in)**

✗ 3. D

✗ 4. B

Q.53 Who invented the first pacemaker?

- A. Virginia Apgar  
 B. John Hopps  
 C. Christian Barnard  
 D. Earle Dickson

Ans ✗ 1. D

✗ 2. A

✗ 3. C

✓ 4. B

Question ID : 2055234259

Status : Not Attempted

Chosen Option : --

Q.54 By which Urdu name is the river Indus referred to in Pakistan?

- A. Sindhu  
 B. Nahar-al-Sindh  
 C. Darya-e-Sindh  
 D. Sindh

Ans ✗ 1. B

✗ 2. A

✗ 3. D

✓ 4. C

Question ID : 2055234235

Status : Answered

Chosen Option : 1

Q.55 In a certain code language, if DELHI is coded as 68291 and PATNA is coded as 75345, then PATLI will be coded as?

- A. 75312  
 B. 53721  
 C. 35712  
 D. 75321

Ans ✓ 1. D

✗ 2. C

✗ 3. B

✗ 4. A

Question ID : 2055234293

Status : Answered

Chosen Option : 4

Q.56 If  $\sin A = \frac{4}{5}$  and  $\sin B = \frac{5}{13}$ , then  $\cot(A - B) = ?$ 

- A.  $\frac{56}{33}$   
 B.  $\frac{65}{33}$   
 C.  $\frac{33}{56}$   
 D.  $\frac{16}{33}$

Ans ✓ 1. A

✗ 2. B

✗ 3. C

✗

Question ID : 2055234289

Status : Not Attempted

Chosen Option : --

\_\_\_\_\_ is system software that manages computer hardware and software resources and provides common services for computer programs.

- A. Operating Margin
- B. Application Software
- C. Operating System
- D. Microsoft Word

Ans  1. D  
 2. C  
 3. A  
 4. B

Question ID : 2055234256

Status : Answered

Chosen Option : 4

**Q.58** व्यक्तिपरक धारणा द्वारा परिभाषित एक क्षेत्र, जो मुख्य स्थान की विशेषताओं से संबंधित भावनाओं और छवियों को प्रतिबिंबित करता है, उसे \_\_\_\_\_ कहा जाता है।

- A. ध्रुवीय क्षेत्र (Polar region)
- B. अवधारणात्मक क्षेत्र (Perceptual region)
- C. ब्लू रे क्षेत्र (Blue ray region)
- D. बैंक क्षेत्र (Bank region)

Ans  1. A  
 2. B  
 3. D  
 4. C

Question ID : 2055234254

Status : Answered

Chosen Option : 2

**Q.59** Mr. Pritosh borrowed Rs. 4500 at 5% per annum compound interest. The compound interest compounded annually for 2 years is:

- A. 4961.25
- B. 461.25
- C. 4916.25
- D. 416.25

Ans  1. C  
 2. B  
 3. D  
 4. A

Question ID : 2055234277

Status : Answered

Chosen Option : 4

**Q.60** \_\_\_\_\_ महाद्वीप में विश्व धरोहर स्थल सबसे अधिक हैं।

- A. एशिया
- B. यूरोप
- C. दक्षिण अमेरिका
- D. ऑस्ट्रेलिया

Ans  1. A  
 2. D  
 3. B  
 4. C

Question ID : 2055234251

Status : Answered

Chosen Option : 1

**Q.61** One of the following endangered animal gives the World's best and most expensive wool -

- A. Chiru
- B. Kashmiri goat
- C. Kashmiri sheep
- D. Cheetal

Ans  1. A  
 2. D  
 3. B

Question ID : 2055234261

Status : Answered

Chosen Option : 4

 4. C

**Q.62** निम्नलिखित चार युग्मों में से तीन युग्म किसी न किसी प्रकार एक समान हैं और एक युग्म भिन्न है। वह कौन सा युग्म है जो अन्य तीन से भिन्न है?

- A. Pascal : Pressure
- B. Watt : Power
- C. Ampere : Current
- D. Radian : Degree

**Ans**  1. D

 2. B

 3. C

 4. A

Question ID : 2055234304

Status : Answered

Chosen Option : 1

**Q.63** हबबल (Hubble) को अंतरिक्ष में कब प्रक्षेपित किया गया था?

A. 1989

B. 1990

C. 1995

D. 1999

**Ans**  1. B

 2. C

 3. D

 4. A

Question ID : 2055234245

Status : Answered

Chosen Option : 2

**Q.64** Answer the question based on the below information:

If '+' means 'x', '-' means '÷', '÷' means '+' and 'x' means '-'

$$16 \div 64 - 4 \times 4 + 3 = ?$$

A. 20

B. 15.2

C. 52

D. 12

**Ans**  1. B

 2. C

 3. A

 4. D

Question ID : 2055234297

Status : Answered

Chosen Option : 3

**Q.65** न्यूलैंड्स (Newlands), मेंडलीव (Mendeleev) और मेयर (Meyer) नामक वैज्ञानिकों ने \_\_\_\_\_ का विकास किया था

- A. धातुविज्ञान (Metallurgy)
- B. आवर्त सारणी विषय-वस्तु (Periodic table contents)
- C. परमाणु संरचना (Atomic structure)
- D. तत्वों (elements) की खोज

**Ans**  1. B

 2. C

 3. A

 4. D

Question ID : 2055234234

Status : Answered

Chosen Option : 1



**Q.66**

Question ID : 2055234273

Status : Answered

A bowl has two holes. The 1<sup>st</sup> hole alone makes the bowl empty in 4 minutes and 2<sup>nd</sup> hole alone makes the bowl empty in 12 minutes. If water leaks out at a constant rate, how long in minutes does it take if both the holes together empty the bowl?

- A. 1.33
- B. 3.5
- C. 4
- D. 3

Ans  1. B  
 2. A  
 3. D  
 4. C

Chosen Option : 3

Q.67 Indonesia is the largest \_\_\_\_\_ country in the world.

- A. Island
- B. Hilly
- C. Mountainous
- D. Forest

Ans  1. C  
 2. D  
 3. B  
 4. A


Question ID : 2055234260

Status : Answered

Chosen Option : 4

Q.68 A, B, C, D and E are sitting on a bench. A is sitting next to B, C is sitting next to D, D is not sitting with E who is on the left end of the bench. C is on the second position from the right. A is to the right of B and E. A and C are sitting together. In which position A is sitting?

- A. Between B and D
- B. Between B and C
- C. Between E and D
- D. Between C and E

Ans  1. C  
 2. B  
 3. A  
 4. D

Question ID : 2055234309

Status : Answered

Chosen Option : 4

Q.69 Compute of  $2304 \div 256 - 11 = ?$

- A. 2
- B. -2
- C. 2304/245
- D. 2340/245

Ans  1. D  
 2. B  
 3. A  
 4. C

Question ID : 2055234264

Status : Answered

Chosen Option : 2

Q.70 Compute  $56565 \times 9999 = ?$

- A. 565953435
- B. 565533435
- C. 565539435
- D. 565593435

Ans  1. A  
 2. D

Question ID : 2055234267

Status : Not Attempted

Chosen Option : --

 3. B

 4. C

Q.71 Which is India's first indigenous super computer?

- A. PARAM 8000
- B. PARAM YUVA II
- C. AADITYA
- D. BHASKARA

Ans  1. C

 2. B

 3. A

 4. D

Question ID : 2055234258

Status : Answered

Chosen Option : 3

Q.72 By interchanging any two signs, correct the below equations:

$$5 \times 15 \div 7 - 20 + 4 = 77$$

- A. - and +
- B. x and ÷
- C. + and ÷
- D. + and x

Ans  1. B

 2. C

 3. D

 4. A

Question ID : 2055234298

Status : Not Attempted

Chosen Option : --

Q.73 If in a certain language, GLOBAL is coded as HMPCBM, how is STAND coded in that code?

- A. TUBEO
- B. TBOUE
- C. TBUEO
- D. TUBOE

Ans  1. B

 2. A

 3. D

 4. C

Question ID : 2055234295

Status : Answered

Chosen Option : 3

Q.74 A group of 1200 persons consisting of teachers and students is travelling in a metro. For every 15 students there is one teacher. The number of teachers in the group is -

- A. 70
- B. 75
- C. 80
- D. 85

Ans  1. A

 2. C

 3. B

 4. D

Question ID : 2055234300

Status : Answered

Chosen Option : 3

Q.75

Question ID : 2055234283

Status : Answered

Chosen Option : 4

Simplify:  $4a - 3(a - 3)$ 

- A.  $-a + 9$   
 B.  $-a - 9$   
 C.  $a + 9$   
 D.  $a - 9$

Ans  1. B  
 2. C  
 3. A  
 4. D

Q.76 \_\_\_\_\_, एल्युमीनियम (aluminium) का सबसे महत्वपूर्ण अयस्क है।

- A. काओलिनाइट (Kaolinite)  
 B. हॅमेटाइट (Haemetite)  
 C. जियोटाइट (Geotite)  
 D. बॉक्साइट (Bauxite)

Ans  1. A  
 2. B  
 3. D  
 4. C

Question ID : 2055234262

Status : Answered

Chosen Option : 1

Q.77  $(36)^{\frac{1}{2}} \times (27)^{\frac{1}{3}} = ?$ 

- A.  $1/8$   
 B. 81  
 C. 18  
 D. 12

Ans  1. D  
 2. B  
 3. A  
 4. C

Question ID : 2055234268

Status : Not Attempted

Chosen Option : --

Q.78 In which year did India launch its first Satellite?

- A. 1975  
 B. 1979  
 C. 1970  
 D. 1980

Ans  1. A  
 2. B  
 3. D  
 4. C

Question ID : 2055234243

Status : Answered

Chosen Option : 3



Comprehension:

**Study the following table and answer the questions.**

Classification of 100 Students Based on the Marks Obtained by them in Science and Arts in an Examination.

Subject	Marks out of 50				
	40 and above	30 and above	20 and above	10 and above	0 and above
Science	9	32	80	92	100
Arts	4	21	66	81	100
Average (Aggregate)	7	27	73	87	100

SubQuestion No : 79

Q.7 Calculate number of students scoring less than 40% aggregate marks.

9

- A. 13
- B. 19
- C. 20
- D. 27

Question ID : 2055234321

Status : Not Attempted

Chosen Option : --

Ans  1. C 2. D 3. B 4. A

Comprehension:

**Study the following table and answer the questions.**

Classification of 100 Students Based on the Marks Obtained by them in Science and Arts in an Examination.

Subject	Marks out of 50				
	40 and above	30 and above	20 and above	10 and above	0 and above
Science	9	32	80	92	100
Arts	4	21	66	81	100
Average (Aggregate)	7	27	73	87	100

SubQuestion No : 80

Q.8 If at least 60% marks in Science are required for pursuing higher studies in Science, calculate total number of students who will be eligible to pursue higher studies in Science?

0

- A. 27
- B. 32
- C. 34
- D. 41

Question ID : 2055234319

Status : Not Attempted

Chosen Option : --

Ans  1. D 2. C

# RRB NTPC EXAM Study Kit



- ▶ 100% Exam Syllabus Covered
- ▶ 4 Books, 950+ Pages
- ▶ Mathematics, General Intelligence & Reasoning,
- ▶ General Science, General Awareness
- ▶ Previous year Solved Papers
- ▶ Mock Tests with Answers
- ▶ 1 Year Current Affairs



₹ 6,000/-  
**₹ 1,999/-**  
Only



For RRB Exam Courses & Study Materials Call Us at: +91-8800734161

## What you will get:

- 100% Syllabus Covered in printed format.
- 4 Booklets
  - General Intelligence & Reasoning
  - General Awareness
  - Arithmetic
  - General Science
- 950+ Pages
- One Year Current Affairs (PDF Copy)
- Guidance & Support from Our Experts

Price of the Kit:

Rs. 6,000

**Rs. 1,999/-**

(Limited time Offer)



Net Banking

**Order Online (100% Safe)**

**अन्य भुगतान विकल्प (Offline Payment Options)**

**50%  
OFF**

**CLICK HERE**

**Disclaimer: rrbexamportal.com is not associated with Railway Recruitment Board,  
For RRB official website visit - www.rrcb.gov.in**

 3. A

 4. B

Comprehension:

Study the following table and answer the questions.

Classification of 100 Students Based on the Marks Obtained by them in Science and Arts in an Examination.

Subject	Marks out of 50				
	40 and above	30 and above	20 and above	10 and above	0 and above
Science	9	32	80	92	100
Arts	4	21	66	81	100
Average (Aggregate)	7	27	73	87	100

SubQuestion No : 81

Q.8 The percentage of number of students getting 20% marks in Arts is exactly 3 times those getting

- 1
- A. An aggregate of 60 and above
  - B. 60 and above in science
  - C. 60 and above in arts
  - D. 80 and above in science

Question ID : 2055234320

Status : Not Attempted

Chosen Option : --

Ans  1. C

 2. B

 3. A

 4. D

Q.82 महाराजा सावाई जय सिंह (Maharaja Sawai Jai Singh) द्वारा निर्मित जंतर मंतर (Jantar Mantar) क्या है?

- A. भूदृश्य (लैंडस्केप)
- B. संग्रहालय
- C. किला
- D. खगोलीय वेधशाला (एस्ट्रोनॉमिकल ओब्सर्वेटरी)

Question ID : 2055234250

Status : Answered

Chosen Option : 1

Ans  1. B

 2. C

 3. A

 4. D

Q.83 एंगस डीटन (Angus Deaton) को अर्थशास्त्र के लिए उनके उपभोग पर कार्य के लिए नोबेल पुरस्कार दिया गया था, यह भारतीय नीति-निर्माताओं के लिए प्रासंगिक क्यों है?

- A. यह उपभोग सूचकांक विकसित करने में मदद करता है
- B. गरीबी के कारणों की व्याख्या करता है
- C. यह बताता है कि गरीबी को कैसे मापा जा सकता है
- D. कराधान के लिए एक नई व्यवस्था प्रदान करता है

Question ID : 2055234242

Status : Answered

Chosen Option : 3

Ans  1. A

 2. D

 3. B

 4. C

Q.84

Question ID : 2055234299

By interchanging any two signs, correct the below equations:

$$4 \times 2 + 6 \div 2 - 12 = 2$$

- A. - and x
- B. + and -
- C. x and +
- D. ÷ and x

Ans  1. D  
 2. A  
 3. B  
 4. C

Status : Not Attempted  
Chosen Option : --

Q.85 Find the HCF of 2189 and 2587.

- A. 3
- B. 197
- C. 199
- D. 198

Ans  1. A  
 2. D  
 3. B  
 4. C

Question ID : 2055234269  
Status : Not Attempted  
Chosen Option : --

Q.86 Read the statements and select a conclusion from the given alternatives:

**Statements:**

- i. Some tulips are flowers
- ii. Some flowers are fishes
- iii. All fishes are leaves
- iv. All leaves are roses

**Conclusions:**

- 1. Some roses are flowers
- 2. Some tulips are fishes
- 3. No leaves are tulips
- 4. No tulips are fishes

**Choose the conclusion/s which best follow/s the statements.**

- A. Only 1 follows
- B. Only 1 and 2 follow
- C. Only 1 and either 2 or 4 follow
- D. Only either 2 or 4 follows

Ans  1. D  
 2. B  
 3. A  
 4. C

Question ID : 2055234311  
Status : Answered  
Chosen Option : 4

Q.87 The cash difference between the selling price of an article at a profit of 4% and 14% is Rs. 3. The ratio of two selling prices is:

- A. 52:57
- B. 51:57
- C. 52:59
- D. 55:57

Ans  1. C

Question ID : 2055234281  
Status : Answered  
Chosen Option : 3

2. A

3. B

4. D

Q.88 Two numbers are in ratio 5:7 and their HCF is 33. Their LCM is:

A. 1155

B. 165

C. 231

D. 1515

Ans  1. D

2. C

3. A

4. B

Question ID : 2055234271

Status : Not Attempted

Chosen Option : --

Q.89 The first meeting of the Indian congress was held at -

A. Calcutta

B. Madras

C. Bombay

D. Delhi

Ans  1. C

2. A

3. B

4. D

Question ID : 2055234249

Status : Answered

Chosen Option : 2

Q.90 One of the following Indian languages does not have a Dravidian origin. -

A. Malayalam

B. Telugu

C. Kannada

D. Marathi

Ans  1. C

2. A

3. B

4. D

Question ID : 2055234240

Status : Answered

Chosen Option : 1

Q.91 The National sport of Turkey is -

A. Racehorse

B. Wrestling

C. Handball

D. Basketball

Ans  1. A

2. C

3. D

4. B

Question ID : 2055234227

Status : Answered

Chosen Option : 1

Q.92

Question ID : 2055234255

What is a computer virus?

- A. Software
- B. Hardware
- C. Freeware
- D. Bacteria

Ans  1. A

 2. D

 3. B

 4. C

Status : Answered

Chosen Option : 2

Q.93 The standard deviation for n observations  $x_1, x_2, x_3, \dots, x_n$  with mean  $\bar{x}$  is given by:

A.  $\sqrt{\frac{\sum_{i=1}^n (x_i - \bar{x})}{n}}$

B.  $\sqrt{\frac{\sum_{i=1}^n (x_i - \bar{x})^2}{n}}$

C.  $\sqrt{\frac{\sum_{i=1}^n (x_i^2 - \bar{x})}{n}}$

D.  $\sqrt{\sum_{i=1}^n (x_i - \bar{x})^2}$

Ans  1. D

 2. C

 3. B

 4. A

Question ID : 2055234290

Status : Answered

Chosen Option : 3

Q.94 The mean of first 20 natural numbers is:

- A. 10
- B. 10.5
- C. 11
- D. 11.5

Ans  1. D

 2. A

 3. C

 4. B

Question ID : 2055234292

Status : Answered

Chosen Option : 3

Q.95 The difference between the consumer's willingness to pay for a commodity and the actual price paid by them is known as:

- A. Consumer Surplus
- B. Consumer Price Index
- C. Consumer Rights
- D. Consumer Durables

Ans  1. D

 2. C

 3. A

 4. B

Question ID : 2055234253

Status : Answered

Chosen Option : 4



**Q.96** Dengue fever, a mosquito borne tropical disease caused by the dengue virus is also known as -

- A. Remittent fever
- B. Quotidian fever
- C. Breakbone fever
- D. Pel Ebstein fever

**Ans**  1. A  
 2. D  
 3. B  
 4. C

Question ID : 2055234230

Status : Answered

Chosen Option : 1

**Q.97** Priya takes 3 hrs 30 minutes in walking a distance and riding back to same place where she started. She could walk both ways in 4 hrs 10 minutes. The time taken by her to ride back both ways is:

- A. 2 hrs 50 min
- B. 2 hrs 35 min
- C. 2 hrs 45 min
- D. 2 hrs 15 min

**Ans**  1. A  
 2. D  
 3. C  
 4. B

Question ID : 2055234276

Status : Answered

Chosen Option : 1

**Q.98** एक नियमित समरूप त्रिभुज की भुजाओं की संख्या कितनी है?

- A. 6
- B. 4
- C. 3
- D. 2

**Ans**  1. D  
 2. A  
 3. C  
 4. B

Question ID : 2055234287

Status : Answered

Chosen Option : 1

**Q.99** World Acquired Immuno Deficiency Syndrome (AIDS) Day was observed on \_\_\_\_\_ with the aim to make people aware about pandemic caused by the HIV infection.

- A. December 10, 2015
- B. September 17, 2015
- C. June 5, 2015
- D. December 1, 2015

**Ans**  1. D  
 2. B  
 3. A  
 4. C

Question ID : 2055234225

Status : Answered

Chosen Option : 1

**Q.10** Direction: Read the statements and select a conclusion from the given alternatives:

0 Statement:

All the members of Jeevandeep society have their own business.

Conclusions:

I) Omkar, son of one of the members of society will carry on his father's business in future.

II) Sheela, a member of society has her own business.

- A. Only conclusion I follows
- B. Only conclusion II follows
- C. Either I or II follows
- D. Neither I nor II follows

**Ans**  1. D  
 2. C

Question ID : 2055234322

Status : Answered

Chosen Option : 1



 3.A

 4.B



<a href="#">Railway Recruitment Board (RRB) <b>NTPC</b> Exams Study Kit</a>	<a href="#">English</a>	<a href="#">CLICK HERE</a>
<a href="#">रेलवे भर्ती बोर्ड <b>एनटीपीसी (NTPC)</b> परीक्षा अध्ययन सामग्री</a>	<a href="#">हिन्दी</a>	<a href="#">CLICK HERE</a>
<a href="#">RRB <b>Loco Pilot (ALP)</b> Exam Study Kit</a>	<a href="#">English</a>	<a href="#">CLICK HERE</a>
<a href="#">रेलवे भर्ती बोर्ड <b>लोको पायलट (ALP)</b> परीक्षा अध्ययन सामग्री</a>	<a href="#">हिन्दी</a>	<a href="#">CLICK HERE</a>
<a href="#">RRB <b>Group-D</b> Exam Study Kit</a>	<a href="#">English</a>	<a href="#">CLICK HERE</a>
<a href="#">रेलवे भर्ती बोर्ड <b>Group-D</b> परीक्षा अध्ययन सामग्री</a>	<a href="#">हिन्दी</a>	<a href="#">CLICK HERE</a>
<a href="#">Study Kit for RRB <b>JE (Junior Engineer)</b> Exam</a>	<a href="#">English</a>	<a href="#">CLICK HERE</a>
<a href="#">आरआरबी <b>जूनियर इंजीनियर</b> परीक्षा (चरण -1) अध्ययन किट</a>	<a href="#">हिन्दी</a>	<a href="#">CLICK HERE</a>
<b>IAS EXAMS STUDY MATERIALS</b>		
<a href="#">Study Kit for IAS (Pre) <b>GENERAL STUDIES</b> Paper-1 (GS)</a>	<a href="#">English</a>	<a href="#">CLICK HERE</a>
<a href="#">Study Kit for IAS (Pre) <b>CSAT</b> Paper-2(Aptitude)</a>	<a href="#">English</a>	<a href="#">CLICK HERE</a>
<a href="#">सामान्य अध्ययन (GS) प्रारंभिक परीक्षा (Pre) पेपर-1</a>	<a href="#">हिन्दी</a>	<a href="#">CLICK HERE</a>
<a href="#">आई. ए. एस. (सी-सैट) प्रारंभिक परीक्षा पेपर -2</a>	<a href="#">हिन्दी</a>	<a href="#">CLICK HERE</a>
<a href="#">Gist of NCERT Study Kit For UPSC Exams</a>	<a href="#">English</a>	<a href="#">CLICK HERE</a>