



# RAILWAY RECRUITMENT BOARDS

## रेलवे भर्ती बोर्ड

RRB NTPC 28th April 2016 Shift 1

Test Date:	28/04/2016
Test Time:	9:00 AM - 10:30 AM
Subject:	RRB NTPC Graduate

- Options shown in green color with a tick icon are correct
- Chosen option on top right of the question indicates the option selected by the candidate

Q.1 यदि FRUIT को WKHTI से कोडित किया जाता है तो MUSKMELON का कोड क्या होगा?

- PHJRMXQNO
- PJHRXMNQO
- HPJRYNMQO
- PHRJMQXON

- Ans
1. C
2. D
3. A
4. B

Question ID : 2055233989

Status : Answered

Chosen Option : 3

Q.2 सिम्पलीपल बायो-रिजर्व कहाँ स्थित है?

- असम
- मेघालय
- उड़ीसा
- पश्चिम बंगाल

- Ans
1. D
2. A
3. B
4. C

Question ID : 2055233928

Status : Answered

Chosen Option : 1

Q.3  $\sin\theta \tan\theta - \sec\theta$  क्या है?

- $-\cos\theta$
- 1
- $-\sec\theta$
- $\operatorname{cosec}\theta$

- Ans
1. A
2. C
3. B

Question ID : 2055233980

Status : Answered

Chosen Option : 1

 4. D

Q.4 1893 में विश्व की धर्मसंघीय संसद में भारत का प्रतिनिधित्व किसने किया था?

- A. स्वामी विवेकानंद  
B. लेखराज खूबचंद कृपलानी  
C. भक्ति विनोदा ठाकुर  
D. उपासनी महाराज

Question ID : 2055233923

Status : Answered

Chosen Option : 3

Ans  1. C

 2. D

 3. A

 4. B

Q.5 श्रेणी 7, 14, 21, 28.....में कितने पदों का योग 952 है?

- A. 16  
B. 17  
C. 18  
D. 19

Question ID : 2055233981

Status : Not Attempted

Chosen Option : --

Ans  1. D

 2. B

 3. A

 4. C

Q.6 एक कार 2 ¼ घंटे के लिए 62 कि.मी./घंटा और 1 ¼ घंटे के लिए 68 कि.मी./घंटा की चाल से यात्रा करती है। तय की गई कुल दूरी में इसकी औसत चाल क्या होगी?

- A. 65  
B. 64  
C. 63  
D. 61

Question ID : 2055233966

Status : Answered

Chosen Option : 4

Ans  1. A

 2. D

 3. C

 4. B

Q.7 नीचे कथन और उनके कुछ निष्कर्ष दिए गए हैं। आपको दिए गए कथनों को सही मान कर चलना है चाहे वे सामान्य ज्ञात तथ्यों से भिन्न प्रतीत होते हों।

कथन: कुछ स्मारक घड़ियाँ हैं। कोई भी घड़ी समय नहीं है।

निष्कर्ष:

- I. कोई भी स्मारक समय नहीं है।  
II. सभी घड़ियाँ स्मारक हैं।

निर्णय कीजिए कि कौन सा/से निष्कर्ष दिए गए कथनों का तार्किक रूप से अनुसरण करता/करते हैं/हैं।

- A. केवल निष्कर्ष I अनुसरण करता है।  
B. केवल निष्कर्ष II अनुसरण करता है।  
C. ना तो I ना ही II अनुसरण करता है।  
D. I और II दोनों अनुसरण करते हैं।

Question ID : 2055234016

Status : Answered

Chosen Option : 1

Ans  1. A

 2. B

 3. C

 4. D

Q.8 यदि एक वृत्त को 6 बराबर भागों में बाँटा जाता है तो बने हुए प्रत्येक कोण की माप क्या होगी?

- A. 45  
B. 60  
C. 30  
D. 90

Question ID : 2055233978

Status : Answered

Chosen Option : 3

- Ans  1. A  
 2. C  
 3. B  
 4. D

Q.9 रेमन मैगसेसे पुरस्कार विजेता अंशु गुप्ता निम्नलिखित में से किस गैर सरकारी संगठन (NGOs) से संबद्ध हैं?

- A. प्रयत्न  
 B. अक्षय पात्र  
 C. गैँज  
 D. उड़ान

- Ans  1. C  
 2. A  
 3. B  
 4. D

Question ID : 2055233914

Status : Not Attempted

Chosen Option : --

Q.10 यदि FOCUS को IRFXV से कोडित किया जाता है तो CAPTURE का कोड क्या होगा?

- A. FDWSUAH  
 B. FDSWXUH  
 C. FSDUXWH  
 D. SDHXWUF

- Ans  1. A  
 2. C  
 3. D  
 4. B

Question ID : 2055233990

Status : Answered

Chosen Option : 4

Q.11 मोरक्को (MOROCCO) से रबाट (RABAT) है तो नामीबिया (NAMIBIA)से है \_\_\_\_\_

- A. विंडहोएक (WINDHOEK)  
 B. नियामे (NIAMEY)  
 C. वेलिंगटन (WELLINGTON)  
 D. ओस्लो (OSLO)

- Ans  1. B  
 2. D  
 3. C  
 4. A

Question ID : 2055233993

Status : Answered

Chosen Option : 1

Q.12 मृदा के अध्ययन का उल्लेख करने के लिए प्रयुक्त शब्द क्या है?

- A. भूमिविज्ञान (Pedology)  
 B. भूगर्भशास्त्र (Geology)  
 C. डॉक्सोलॉजी (Doxology)  
 D. पारिस्थितिकी (Ecology)

- Ans  1. D  
 2. A  
 3. B  
 4. C

Question ID : 2055233917

Status : Answered

Chosen Option : 2

Q.13

Question ID : 2055233935

Status : Answered

Chosen Option : 4

वेक्टर राशि का उदाहरण क्या है?

- A. वजन  
B. तापमान  
C. वेग  
D. लंबाई

Ans  1. D  
 2. B  
 3. A  
 4. C

Q.14 चाली एक बेड 22% की छूट के बाद ₹ 16,725 में खरीदता है। बाद में वह पाता है कि यही स्टोर उस बेड को ऑनलाइन 15% छूट के बाद ₹ 15,685 में बेच रहा था। स्टोर से खरीदे गए बेड के अंकित मूल्य और ऑनलाइन बेड के अंकित मूल्य में क्या अंतर है? (निकटतम रूप में पूर्णांकित)

- A. 2989  
B. 2785  
C. 2897  
D. 2888

Ans  1. C  
 2. B  
 3. D  
 4. A

Question ID : 2055233970

Status : Answered

Chosen Option : 4

Comprehension:

निम्नांकित सारणी पाँच राज्यों M, N, O, P और Q में गरीबी रेखा तथा लिंग के आधार पर जनसंख्या का प्रतिशत वितरण दर्शाती है।

राज्य	गरीबी रेखा से नीचे जनसंख्या %	पुरुषों (M) और महिलाओं का अनुपात (F)	
		गरीबी रेखा से नीचे	गरीबी रेखा से ऊपर
		M : F	M : F
M	40	7:6	8:7
N	30	3:2	6:5
O	26	1:1	4:3
P	17	1:2	4:5
Q	20	2:3	3:4

SubQuestion No : 15

Q.15 यदि राज्य O की गरीबी रेखा से ऊपर की पुरुष जनसंख्या 1.7 मिलियन है तो राज्य O की कुल जनसंख्या क्या होगी?

- A. 4.62 million  
B. 5.36 million  
C. 5.63 million  
D. 4.92 million

Ans  1. B  
 2. C  
 3. D  
 4. A

Question ID : 2055234011

Status : Not Attempted

Chosen Option : --

Comprehension:

निम्नांकित सारणी पाँच राज्यों M, N, O, P और Q में गरीबी रेखा तथा लिंग के आधार पर जनसंख्या का प्रतिशत वितरण दर्शाती है।

राज्य	गरीबी रेखा से नीचे जनसंख्या %	पुरुषों (M) और महिलाओं का अनुपात (F)	
		गरीबी रेखा से नीचे	गरीबी रेखा से ऊपर
		M : F	M : F
M	40	7:6	8:7
N	30	3:2	6:5
O	26	1:1	4:3
P	17	1:2	4:5
Q	20	2:3	3:4


SubQuestion No : 16

- Q.1 6 यदि राज्य N की गरीबी रेखा से नीचे की पुरुष जनसंख्या 2.6 मिलियन है और राज्य Q के लिए यह 6 मिलियन है तो राज्य N और Q की कुल जनसंख्या का अनुपात होगा?
- A. 4.33 : 10  
B. 2.33 : 10  
C. 3 : 5.5  
D. 1 : 1

Question ID : 2055234013

Status : Not Attempted

Chosen Option : --

- Ans  1. A  
 2. B  
 3. D  
 4. C

Comprehension:

निम्नांकित सारणी पाँच राज्यों M, N, O, P और Q में गरीबी रेखा तथा लिंग के आधार पर जनसंख्या का प्रतिशत वितरण दर्शाती है।

राज्य	गरीबी रेखा से नीचे जनसंख्या %	पुरुषों (M) और महिलाओं का अनुपात (F)	
		गरीबी रेखा से नीचे	गरीबी रेखा से ऊपर
		M : F	M : F
M	40	7:6	8:7
N	30	3:2	6:5
O	26	1:1	4:3
P	17	1:2	4:5
Q	20	2:3	3:4

SubQuestion No : 17

- Q.1 7 राज्य P की गरीबी रेखा से ऊपर की महिला जनसंख्या क्या होगी यदि यह जात हो कि राज्य P की कुल जनसंख्या 9 मिलियन है?
- A. 4.32 मिलियन  
B. 5.32 मिलियन  
C. 3.32 मिलियन  
D. 6.32 मिलियन

Question ID : 2055234012

Status : Not Attempted

Chosen Option : --

- Ans  1. C  
 2. D  
 3. B  
 4. A

Q.18

Question ID : 2055233941

आसुत जल (distilled water) में मछली क्यों जीवित नहीं रह सकती है?

- A. उसमें साँस नहीं ले सकती  
B. परासरण (Osmosis) मछली के शरीर के तरल पदार्थों को पतला कर देता है  
C. इसमें ऑक्सीजन नहीं होता है  
D. इसमें भोजन नहीं होता है

Ans  1. B  
 2. D  
 3. A  
 4. C

Status : **Answered**  
Chosen Option : 1

Q.19 स्नूकर का खेल कितनी गेंदों के साथ खेला जाता है?

- A. 16  
B. 18  
C. 22  
D. 24

Ans  1. B  
 2. C  
 3. D  
 4. A

Question ID : **2055233925**  
Status : **Not Attempted**  
Chosen Option : --

Q.20 एक साड़ी 5% की छूट के बाद ₹ 5871 में बेची जाती है। उसका अंकित मूल्य ज्ञात कीजिए।




- A. 5577  
B. 6880  
C. 6180  
D. 5734

Ans  1. C  
 2. B  
 3. A  
 4. D

Question ID : **2055233972**  
Status : **Answered**  
Chosen Option : 1

Q.21 एक पिता और उसके पुत्र की आयु का योग 49 वर्ष है। उनकी आयु का अनुपात 5:2 है। तो 5 वर्ष बाद पुत्र की आयु क्या होगी?




- A. 12  
B. 19  
C. 14  
D. 21

Ans  1. A  
 2. C  
 3. D  
 4. B

Question ID : **2055233975**  
Status : **Answered**  
Chosen Option : 4

Q.22 लासा (Mucilage) को पानी के साथ मिश्रित करने पर उसे किस रूप में इस्तेमाल किया जा सकता है?

- A. दूधपेस्ट (Toothpaste)  
B. कीट निरोधक (Insect repellants)  
C. गोंद (Glue)  
D. च्यूइंग गम (Chewing gum)

Ans  1. C  
 2. D  
 3. B

Question ID : **2055233953**  
Status : **Answered**  
Chosen Option : 1

 4. A

Q.23 जीवों के वर्गीकरण से संबंधित जीव विज्ञान की शाखा को क्या कहते हैं?

- A. वर्गीकरण विज्ञान (Taxonomy)  
B. नोथोलॉजी (Nothology)  
C. शरीर रचना विज्ञान (Anatomy)  
D. सरोविज्ञान (Limnology)

Question ID : 2055233939

Status : Answered

Chosen Option : 3

Ans  1. B

 2. D

 3. A

 4. C

Q.24 यदि आप  $5x^2-6x+5$  में से  $-x^2-x+8$  घटा देते हैं तो आपको क्या प्राप्त होगा?

- A.  $-6x^2-5x+3$   
B.  $4x^2-7x+13$   
C.  $-6x^2-7x-13$   
D.  $6x^2-5x-3$

Question ID : 2055233973

Status : Answered

Chosen Option : 4

Ans  1. B

 2. C

 3. A

 4. D

Q.25 बारिश के तुरंत बाद उत्पन्न हुई मिट्टी की सौंधी खुशबू को क्या कहते हैं?

- A. पेट्रीचोर (Petrichor)  
B. टेम्पस वर्नम (Tempus vernum)  
C. ब्रोची (Vrochi)  
D. इरदा (Irida)

Question ID : 2055233942

Status : Not Attempted

Chosen Option : --

Ans  1. D

 2. B

 3. A

 4. C

Q.26 नीचे कथन और उनके कुछ निष्कर्ष दिए गए हैं। आपको दिए गए कथनों को सही मान कर चलना है चाहे वे सामान्य ज्ञात तथ्यों से भिन्न प्रतीत होते हों।

कथन: कुछ हाथी शेर हैं। कुछ शेर ऊँट हैं।

निष्कर्ष:

- I. कुछ गाय ऊँट हैं।  
II. सभी शेर गाय हैं।

निर्णय कीजिए कि कौन सा/से निष्कर्ष दिए गए कथनों का तार्किक रूप से अनुसरण करता/करते हैं/हैं।

- A. केवल निष्कर्ष I अनुसरण करता है।  
B. केवल निष्कर्ष II अनुसरण करता है।  
C. ना तो I ना ही II अनुसरण करता है।  
D. I और II दोनों अनुसरण करते हैं।

Question ID : 2055234015

Status : Answered

Chosen Option : 2

Ans  1. B

 2. D

 3. A

 4. C

Q.27 निम्नलिखित में से संपीड़न प्रारूप (video compression format) के रूप में किसका प्रयोग किया जाता है?

- A. WMV  
B. MP3  
C. JPEG  
D. WMA

Question ID : 2055233948

Status : Answered

Chosen Option : 4

# RRB NTPC EXAM Study Kit



- ▶ 100% Exam Syllabus Covered
- ▶ 4 Books, 950+ Pages
- ▶ Mathematics, General Intelligence & Reasoning,
- ▶ General Science, General Awareness
- ▶ Previous year Solved Papers
- ▶ Mock Tests with Answers
- ▶ 1 Year Current Affairs



₹ 6,000/-  
**₹ 1,999/-**  
Only



For RRB Exam Courses & Study Materials Call Us at: +91-8800734161

## What you will get:

- 100% Syllabus Covered in printed format.
- 4 Booklets
  - General Intelligence & Reasoning
  - General Awareness
  - Arithmetic
  - General Science
- 950+ Pages
- One Year Current Affairs (PDF Copy)
- Guidance & Support from Our Experts

Price of the Kit:

Rs. 6,000

**Rs. 1,999/-**

(Limited time Offer)



Net Banking

**Order Online (100% Safe)**

**अन्य भुगतान विकल्प (Offline Payment Options)**

**50%  
OFF**

**CLICK HERE**

**Disclaimer: rrbexamportal.com is not associated with Railway Recruitment Board,  
For RRB official website visit - www.rrcb.gov.in**



- Ans  1. D  
 2. B  
 3. C  
 4. A

Q.28 काली मिट्टी के लिए सर्वाधिक उपयुक्त नकदी फसल कौन सी है?

- A. कपास  
 B. चाय  
 C. जूट  
 D. तिलहन

Question ID : 2055233918

Status : Answered

Chosen Option : 4

- Ans  1. B  
 2. D  
 3. C  
 4. A

Q.29 चार पहियों की परिधि 16 cm, 24 cm, 32 cm और 40 cm है। वे एक साथ घुमना शुरू करते हैं। यदि प्रत्येक पहिया एक पूरा चक्कर लगाता है तो उनके द्वारा कम से कम कितनी दूरी तय की जाएगी?

- A. 480 cm  
 B. 40 cm  
 C. 520 cm  
 D. 560 cm

Question ID : 2055233960

Status : Answered

Chosen Option : 1

- Ans  1. A  
 2. B  
 3. C  
 4. D

Comprehension:

निम्नलिखित जानकारियों को पढ़ें और इस पर आधारित प्रश्नों के उत्तर दें।

- (i) एक कक्षा में एमी, बेला, सेरा, दिया, एम्मा और फिला 6 विद्यार्थी हैं।  
 (ii) एम्मा और दिया, एमी से छोटी हैं लेकिन फिला से भारी हैं।  
 (iii) सेरा एम्मा से भारी है और दिया से लंबी है।  
 (iv) बेला सेरा से छोटी है लेकिन एमी से लंबी है।  
 (v) एमी सेरा से भारी है।  
 (vi) फिला बेला से छोटी है लेकिन एमी से लंबी है।

SubQuestion No : 30

Q.3 इनमें से सबसे छोटी कौन है?

- A. बेला  
 B. सेरा  
 C. दिया  
 D. फिला

Question ID : 2055234000

Status : Not Attempted

Chosen Option : --

- Ans  1. B  
 2. A

✗ 3. D

✓ 4. C

Comprehension:

निम्नलिखित जानकारियों को पढ़ें और इस पर आधारित प्रश्नों के उत्तर दें।

- (i) एक कक्षा में एमी, बेला, सेरा, दिया, एम्मा और फिला 6 विद्यार्थी हैं।
- (ii) एम्मा और दिया, एमी से छोटी हैं लेकिन फिला से भारी हैं।
- (iii) सेरा एम्मा से भारी है और दिया से लंबी है।
- (iv) बेला सेरा से छोटी है लेकिन एमी से लंबी है।
- (v) एमी सेरा से भारी है।
- (vi) फिला बेला से छोटी है लेकिन एमी से लंबी है।

SubQuestion No : 31

Q.3 निम्न में से मित्रों का कौन सा समूह फिला से छोटा है?

- A. सेरा ,बेला ,एमी
- B. एमी ,एम्मा ,दिया
- C. बेला ,एमी ,एम्मा
- D. सेरा ,बेला ,एम्मा

Question ID : 2055234002

Status : Not Attempted

Chosen Option : --

Ans ✗ 1. D

✗ 2. C

✗ 3. A

✓ 4. B

Comprehension:

निम्नलिखित जानकारियों को पढ़ें और इस पर आधारित प्रश्नों के उत्तर दें।

- (i) एक कक्षा में एमी, बेला, सेरा, दिया, एम्मा और फिला 6 विद्यार्थी हैं।
- (ii) एम्मा और दिया, एमी से छोटी हैं लेकिन फिला से भारी हैं।
- (iii) सेरा एम्मा से भारी है और दिया से लंबी है।
- (iv) बेला सेरा से छोटी है लेकिन एमी से लंबी है।
- (v) एमी सेरा से भारी है।
- (vi) फिला बेला से छोटी है लेकिन एमी से लंबी है।

SubQuestion No : 32

Q.3 ऊपर से चौथे क्रम पर कौन होगा यदि उन्हें उनकी लंबाई के अवरोही क्रम में रखा जाए?

- 2 A. सेरा
- B. एमी
- C. दिया
- D. एम्मा

Question ID : 2055234001

Status : Not Attempted

Chosen Option : --

Ans ✗ 1. D

2. A

3. C

4. B

Q.33 लगभग किस तापमान पर पानी का घनत्व अधिकतम होगा?

A.  $0^{\circ}$  C

B.  $4^{\circ}$  C

C.  $39^{\circ}$  C

D.  $100^{\circ}$  C

Ans  1. A

2. B

3. D

4. C

Question ID : 2055233937

Status : Answered

Chosen Option : 2

Q.34 मिस्र के प्रतीकयुक्त लेखों की प्राचीन शैली को क्या कहते हैं?

A. हाइरोग्लिफिक्स (Hieroglyphics)

B. क्यूनीफॉर्म (Cuneiform)

C. हाईटाइट (Hitite)

D. ज़ेपोटेक (Zapotec)

Ans  1. A

2. C

3. D

4. B

Question ID : 2055233934

Status : Not Attempted

Chosen Option : --

Q.35 रोलरकोस्टर की सवारी में कौन सा बल कार्य करता है?

A. अपकेंद्री (Centrifugal)

B. अभिकेन्द्री (Centripetal)

C. गुरुत्वीय (Gravitational)

D. अभिलंब (Normal)

Ans  1. B

2. C

3. A

4. D

Question ID : 2055233936

Status : Not Attempted

Chosen Option : --

Q.36 यदि N की बहन M है तो N, O से किस प्रकार संबंधित है?

इस प्रश्न का उत्तर देने के लिए निम्न कथनों में से कौन सा/से कथन आवश्यक है/हैं?

1. M की पुत्री O की नातिन है।

2. M का भाई N है।

A. केवल 1

B. केवल 2

C. या तो 1 या 2

D. दोनों कथन आवश्यक हैं

Question ID : 2055233997

Status : Answered

Chosen Option : 2

- Ans  1. C  
 2. A  
 3. B  
 4. D

Q.37 4 अव्यवस्थित वाक्यों P, Q, R और S को एक अर्थपूर्ण पैराग्राफ बनाने के लिए पुनर्व्यवस्थित करें।

P : cricket is a religion in India and

Q : most of the other sports suffer

R : due to the extra importance given to cricket as a game

S : it is known to all

उचित क्रम है

A. PQSR

B. PSQR

C. QSPR

D. SPRQ

- Ans  1. D  
 2. C  
 3. B  
 4. A

Question ID : 2055234004

Status : Answered

Chosen Option : 3

Q.38 सरल कीजिए :  $\{13+[25\div(3+7)]-(2\times 6)\}$

A. 3.5

B. 0.5

C. 2.8

D. 4

- Ans  1. A  
 2. C  
 3. B  
 4. D

Question ID : 2055233955

Status : Answered

Chosen Option : 1

Q.39 'A' किसी काम को 20 दिनों में पूरा कर सकता है और 'B' उसी काम को 15 दिन में कर सकता है। 'B' 6 दिन काम करता है और काम छोड़ देता है। अकेले 'A' कितने दिनों में बचे हुए काम को पूरा कर सकता है?

A. 2 दिन

B. 4 दिन

C. 6 दिन

D. 5 दिन

- Ans 1. C  
 2. D  
 3. B  
 4. A

Note: For this question, discrepancy is found in question/answer. So, This question is ignored for all candidates.

Question ID : 2055233991

Status : Answered

Chosen Option : 1

Q.40 यदि GARDEN को 562701 और FOREST को 342098 से कोडित किया जाता है तो ARREST का कोड क्या होगा?

A. 357909

B. 262908

C. 622098

D. 620289

- Ans  1. D  
 2. B  
 3. C  
 4. A

Question ID : 2055233988

Status : Answered

Chosen Option : 3

Q.41

4सेमी भुजा वाले एक घन का पृष्ठीय क्षेत्रफल क्या है?

- A. 16 वर्ग सेमी
- B. 96 वर्ग सेमी
- C. 64 वर्ग सेमी
- D. 32 वर्ग सेमी

Ans  1. A  
 2. B  
 3. C  
 4. D

Question ID : 2055233977

Status : Answered

Chosen Option : 2

Q.42 जिसमें सभी नोड्स (कार्यस्थल और अन्य डिवाइस) सीधे एक सामान्य केंद्रीय कंप्यूटर से जुड़े होते हैं, वह लोकल एरिया नेटवर्क (

local area network, LAN) क्या कहलाता है?

- A. रिंग (Ring)
- B. बस (Bus)
- C. स्टार (Star)
- D. वर्टिकल (Vertical)

Ans  1. D  
 2. A  
 3. C  
 4. B

Question ID : 2055233946

Status : Answered

Chosen Option : 3

Q.43 टकला माकन रेगिस्तान कहाँ पाया जाता है?

- A. सऊदी अरब (Saudi Arabia)
- B. नामीबिया (Namibia)
- C. चीन (China)
- D. अमेरिका (USA)

Ans  1. A  
 2. C  
 3. D  
 4. B




Question ID : 2055233933

Status : Not Attempted

Chosen Option : --

Q.44 उस राशि का 3 वर्ष के लिए 7% की दर पर चक्रवृद्धि ब्याज जात कीजिए? जिसका 3 वर्ष में 7% की दर पर साधारण ब्याज ₹ 18,900 होगा। (निकटतम रूपये में पूर्णांकित)

- A. 19,746
- B. 18,390
- C. 20,254
- D. 21,053

Ans  1. D  
 2. A  
 3. B  
 4. C

Question ID : 2055233969

Status : Answered

Chosen Option : 1

Q.45

Question ID : 2055233943

Status : Answered

Chosen Option : 2

प्याज काटते समय आँखों में जलन पैदा करने वाला यौगिक कौन है?

- A. कार्बन
- B. नाइट्रोजन
- C. सल्फर
- D. हाइड्रोजन

Ans  1. B  
 2. C  
 3. D  
 4. A

Q.46 नई दिल्ली को देश की राजधानी कब बनाई गई थी?

- A. 1908
- B. 1910
- C. 1911
- D. 1914

Ans  1. A  
 2. D  
 3. B  
 4. C

Question ID : 2055233922

Status : Answered

Chosen Option : 4

Q.47 4. अव्यवस्थित वाक्यों P, Q, R और S को एक अर्थपूर्ण पैराग्राफ बनाने के लिए पुनर्व्यवस्थित करें।

P : is mostly produced in rural farms

Q : India is a leading producer of

R : milk is the most important of them and

S : dairy products by volume

उचित क्रम है

- A. SRPQ
- B. QSPR
- C. QPSR
- D. QSRP

Ans  1. D  
 2. A  
 3. C  
 4. B

Question ID : 2055234005

Status : Answered

Chosen Option : 1

Q.48 निम्नलिखित में से किसका अर्थ 'टाइरंट लिजार्ड किंग', (tyrant lizard king) है?

- A. प्रोटोसेराटॉप्स (Protoceratops)
- B. टायरेनोसॉरस रेक्स (Tyrannosaurus rex)
- C. डिप्लोडॉकस (Diplodocus)
- D. कॉम्पसोग्नेथस (Compsognathus)

Ans  1. B  
 2. D  
 3. A  
 4. C

Question ID : 2055233940

Status : Not Attempted

Chosen Option : --

Q.49

यदि  $\tan A + \cot A = 2$  है, तो  $\tan^2 A + \cot^2 A$  का मान ज्ञात कीजिए।

- A. 4  
B. 2  
C. 1  
D. 1/2

Ans  1. C  
 2. B  
 3. D  
 4. A

Question ID : 2055233979

Status : Answered

Chosen Option : 2

Q.50 जीव को उसकी परीक्षा में 492 अंक प्राप्त होते हैं। यदि उसके 12 अंक और अधिक प्राप्त होते तो उसके प्राप्त अंको का प्रतिशत 84 होता। वह उसकी परीक्षा में अधिकतम कितने अंक प्राप्त कर सकता था?

- A. 504  
B. 540  
C. 580  
D. 600

Ans  1. C  
 2. B  
 3. D  
 4. A

Question ID : 2055233982

Status : Answered

Chosen Option : 3

Q.51 22 मीटर व्यास वाले वृत्त के आकार में एक बगीचा बनाया गया है। वहाँ बगीचे के केंद्र में खेल के मैदान के लिए 4 मी त्रिज्या का एक वृत्ताकार भाग है। बना हुआ यह वृत्ताकार रिंग, घास द्वारा ढके जाने के लिए कहा गया है। तो इस वृत्ताकार रिंग का क्षेत्रफल वर्गमीटर में ज्ञात कीजिए।

- A. 1470.8  
B. 572.6  
C. 330  
D. 707.14

Ans  1. A  
 2. B  
 3. C  
 4. D

Question ID : 2055233976

Status : Answered

Chosen Option : 3

Q.52  $\frac{13}{55}$  को दशमलव में बदलिए।

- A. 0.20  
B. 0.236  
C. 0.245  
D. 0.257

Ans  1. A  
 2. C  
 3. D  
 4. B

Question ID : 2055233957

Status : Answered

Chosen Option : 4

Q.53 नीचे कथन और उनके कुछ निष्कर्ष दिए गए हैं। आपको दिए गए कथनों को सही मान कर चलना है चाहे वे सामान्य ज्ञात तथ्यों से भिन्न प्रतीत होते हों।

कथन: सभी कुर्सियाँ खिड़कियाँ हैं। कोई भी खिड़की दरवाजा नहीं है।

निष्कर्ष:

- I. कुछ कुर्सियाँ दरवाजे हैं।  
II. कोई भी दरवाजा खिड़की नहीं है।

निर्णय कीजिए कि कौन सा/से निष्कर्ष दिए गए कथनों का तार्किक रूप से अनुसरण करता/करते हैं/हैं।

- A. केवल निष्कर्ष I अनुसरण करता है।  
B. केवल निष्कर्ष II अनुसरण करता है।  
C. ना तो I ना ही II अनुसरण करता है।  
D. I और II दोनों अनुसरण करते हैं।

Ans

Question ID : 2055234014

Status : Answered

Chosen Option : 3



**RRB NTPC**

Railway Recruitment Board

## **RRB NTPC (Tier -1 & Tier -2) Exam**

- [RRB NTPC \(Tier -1\) Exam](#)
- [RRB NTPC \(Tier -2\) Exam](#)
- [Exam PAPERS](#)
- [Exam Syllabus](#)
- [Eligibility](#)
- [Medical Fitness](#)
- [RRB Post Preference & Zones List](#)
- [परीक्षा सिलेबस "Exam Syllabus in Hindi"](#)
- [Printed Study Material \(English Medium\)](#)
- [RRB NTPC Exam for Aptitude Test](#)
- [RRB NTPC Exam for Typing Skill Test](#)

[CLICK HERE](#)

**Disclaimer: rrbexamportal.com is not associated with Railway Recruitment Board,  
For RRB official website visit - [www.rrcb.gov.in](http://www.rrcb.gov.in)**



1. C  
 2. D  
 3. B  
 4. A

**Q.54** सबसे छोटी अभाज्य संख्या और 0 को छोड़कर किसी भी पूर्ण संख्या का गुणनफल क्या होगा?

- A. हमेशा शून्य  
 B. हमेशा एक  
 C. हमेशा सम संख्या  
 D. हमेशा विषम संख्या

- Ans**  1. B  
 2. C  
 3. A  
 4. D

Question ID : **2055233954**

Status : **Not Attempted**

Chosen Option : --

**Q.55** यदि PAINT को 21563 और SHOT को 8503 से कोडित किया जाता है तो TOAST का कोड क्या होगा?

- A. 31852  
 B. 30183  
 C. 30138  
 D. 31038

- Ans**  1. D  
 2. B  
 3. C  
 4. A

Question ID : **2055233987**

Status : **Answered**

Chosen Option : 2

**Q.56** एक रेलगाड़ी 435 कि.मी. की दूरी 2 घंटे 30 मिनट में तय करती है। इसकी चाल मीटर प्रति सेक्रेण्ड में जात कीजिए।

- A. 47.4  
 B. 45.8  
 C. 43.5  
 D. 48.3

- Ans**  1. C  
 2. B  
 3. A  
 4. D

Question ID : **2055233967**

Status : **Answered**

Chosen Option : 4

**Q.57** XYZ कंपनी अपने लाभ या हानि को अपने साझेदारों X, Y और Z में क्रमशः 1/3, 1/2, 1/6 के अनुपात में बाँटती है। यदि Z को उसके हिस्से के रूप में ₹ 1,76,802 प्राप्त होते हैं तो Y द्वारा प्राप्त राशि जात कीजिए।

- A. 5,30,406  
 B. 88,401  
 C. 3,53,604  
 D. 2,65,203

- Ans**  1. D  
 2. A  
 3. C  
 4. B

Question ID : **2055233962**

Status : **Answered**

Chosen Option : 2

**Q.58** 4 अव्यवस्थित वाक्यों P, Q, R और S को एक अर्थपूर्ण पैराग्राफ बनाने के लिए पुनर्व्यवस्थित करें।

- P : mostly decided by the market conditions  
 Q : sometimes, a United States dollar is worth only 12 pesos in Mexico  
 R : the rates of exchange between them vary from time to time  
 S : and some other time it can be 100 pesos

उचित क्रम है-

- A. PRSQ  
 B. QPRS  
 C. QSRP  
 D. QSPR

Question ID : **2055234003**

Status : **Answered**

Chosen Option : 3

- Ans  1. D  
 2. B  
 3. C  
 4. A

**Q.59** कैबिनेट मिशन, जिसने 1946 में एक कैबिनेट मिशन योजना तैयार की थी, इसमें निम्नलिखित गणमान्य व्यक्तियों में से कौन शामिल थे?

- A. मोहम्मद अली जिन्ना  
 B. सर पेथिक लॉरेस  
 C. क्लेमेंट अटली  
 D. लाई माउंटबेटेन

- Ans  1. B  
 2. C  
 3. A  
 4. D

Question ID : 2055233930

Status : Answered

Chosen Option : 1

**Q.60** एक लड़की का परिचय कराते हुए लड़का कहता है, "वह मेरे चाचा के पिता के पुत्र की पुत्री है"। लड़की, लड़के से किस प्रकार संबंधित है।

- A. भतीजी / भौजी  
 B. बहू  
 C. बहन  
 D. चाची / मामी

- Ans  1. A  
 2. B  
 3. C  
 4. D

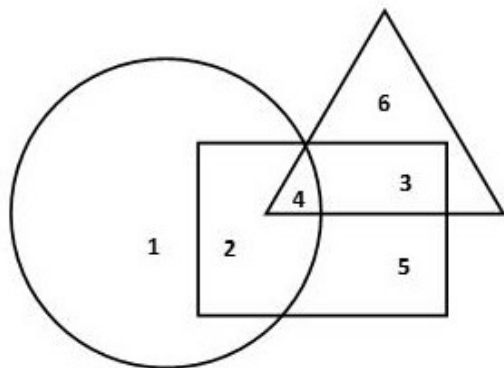
Question ID : 2055233996

Status : Answered

Chosen Option : 3

**Comprehension:**

निम्नांकित चित्र का अध्ययन करें और नीचे दिए गए प्रश्नों के उत्तर दें।



व्यक्ति जो संयुक्त परिवार में रहते हैं



अविवाहित व्यक्ति



डॉक्टर

**SubQuestion No : 61**

**Q.6** कौन सी संख्या उन व्यक्तियों को दर्शाती है जो संयुक्त परिवार में रहते हैं परंतु ना तो अविवाहित हैं और ना ही डॉक्टर हैं?

- 1 A. 4  
 B. 5  
 C. 2  
 D. 1

- Ans  1. B

Question ID : 2055234009

Status : Answered

Chosen Option : 2

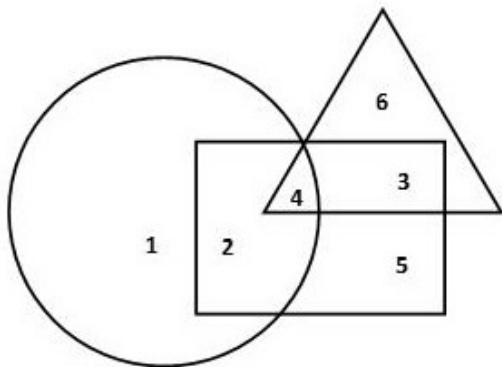
✓ 2. D

✗ 3. A

✗ 4. C

Comprehension:

निम्नांकित चित्र का अध्ययन करें और नीचे दिए गए प्रश्नों के उत्तर दें।



व्यक्ति जो संयुक्त परिवार में रहते हैं



अविवाहित व्यक्ति



डॉक्टर

SubQuestion No : 62

Q.6 संयुक्त परिवार में रहने वाले अविवाहित डॉक्टरों को कौन सी संख्या दर्शाती है?

2

- A. 2  
B. 3  
C. 4  
D. 6

Ans

✗ 1. B

✗ 2. D

✗ 3. A

✓ 4. C

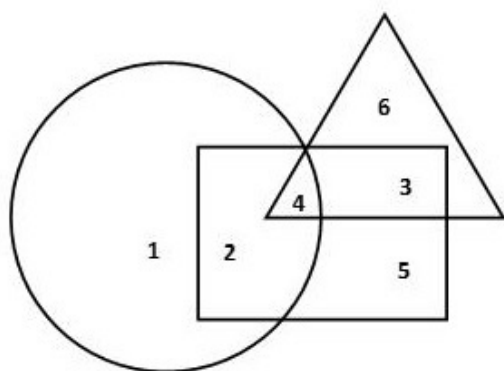
Question ID : 2055234007


Status : Answered


Chosen Option : 4


Comprehension:

निम्नांकित चित्र का अध्ययन करें और नीचे दिए गए प्रश्नों के उत्तर दें।



 व्यक्ति जो संयुक्त परिवार में रहते हैं

 अविवाहित व्यक्ति

 डॉक्टर

SubQuestion No : 63

Q.63 संयुक्त परिवार में रहने वाले अविवाहित व्यक्ति जो डॉक्टर नहीं हैं उनको कौन सी संख्या दर्शाती है?

- 3  
A. 2  
B. 4  
C. 1  
D. 5

Ans  1. D  
 2. B  
 3. A  
 4. C

Question ID : 2055234008

Status : Answered

Chosen Option : 3

Q.64 दक्षिण एशियाई रेसलिंग महासंघ के अध्यक्ष कौन हैं?

- A. बृजभूषण शरण सिंह  
B. तबीउर रहमान  
C. राज मोहम्मद अंसारी  
D. चौधरी मोहम्मद अजगर

Ans  1. A  
 2. B  
 3. D  
 4. C

Question ID : 2055233924

Status : Not Attempted

Chosen Option : --

Q.65

Question ID : 2055233958

Status : Answered

Chosen Option : 1

सरल कीजिए :  $\frac{\sqrt{32-\sqrt{18}}}{\sqrt{50+\sqrt{8}}}$

- A. 7  
B.  $\frac{1}{7}$   
C.  $\frac{\sqrt{2}}{7}$   
D.  $2\sqrt{2}$

Ans  1. B  
 2. A  
 3. D  
 4. C

Q.66 राम से कौशल्या हैं तो कर्ण से हैं \_\_\_\_\_

- A. द्रौपदी  
B. गंगा  
C. वृषाली  
D. कुंती

Ans  1. A  
 2. B  
 3. C  
 4. D

Question ID : 2055233995

Status : Answered

Chosen Option : 4

Q.67 किताब से पेज है तो खिड़की से क्या है?

- A. जंगल  
B. लकड़ी  
C. खिड़की का शीशा  
D. कमरा

Ans  1. A  
 2. D  
 3. B  
 4. C

Question ID : 2055233984

Status : Answered

Chosen Option : 4

Q.68 स्टर्लिंग सिल्वर (sterling silver) के न्यूनतम हजारवें भाग की शुद्धता (खरापन) क्या है?

- A. 916  
B. 925  
C. 935  
D. 950

Ans  1. C  
 2. B  
 3. A  
 4. D

Question ID : 2055233952

Status : Not Attempted

Chosen Option : --

Q.69 टाटा मोटर्स ने मूल रूप से 'जीका' नाम की कार का नाम बदलकर क्या रखा है?

- A. कूगा
- B. नेक्सॉन
- C. टियागो
- D. हेक्सा

Ans  1. C

- 2. B
- 3. A
- 4. D

Question ID : 2055233916

Status : Not Attempted

Chosen Option : --

Q.70 यदि A%B का अर्थ B की पुत्री A है, A-B का अर्थ B का भाई A है और AXB का अर्थ B का पिता A है तो निम्न में से कौन सा विकल्प "N का पोता M है" का संबंध दर्शाता है?

- A. M%CXFXN
- B. DXFXN%M
- C. M-C%F%N
- D. N%DXFXC

Ans  1. C

- 2. B
- 3. D
- 4. A

Question ID : 2055233998

Status : Answered

Chosen Option : 2

Q.71 एक चाय के व्यापारी के पास 3 किस्मों की चाय बेचने के लिए हैं। ब्रांड A को ₹ 252 प्रति किलो, ब्रांड B को ₹ 280 प्रति किलो तथा ब्रांड C को ₹ 316 प्रति किलो की दर बेचा गया। वर्ष के अंत में वह पाता है कि उसके पास ब्रांड A की चाय 274 किलो, ब्रांड B की चाय 197 किलो और ब्रांड C की चाय 54 किलो बच गयी है। वह तीनों को मिश्रित कर देता है और मिश्रण को ₹ 283.50 प्रति किलो की दर से बेच देता है। विक्री पर उसका लाभ या हानि क्या थी?

- A. ₹ 7565.50 का लाभ
- B. ₹ 7565.50 की हानि
- C. ₹ 8232.40 का लाभ
- D. ₹ 8125.30 की हानि

Ans  1. A

- 2. B
- 3. C
- 4. D

Question ID : 2055233971

Status : Not Attempted

Chosen Option : --

Q.72 सूर्य के फोटोस्फियर (photosphere) से उत्पन्न होने वाली ऊर्जा के संक्षिप्त विस्फोटों को क्या कहते हैं?

- A. सौर ऊर्जा (Solar energy)
- B. सौर प्रज्वाल (Solar flares)
- C. सूर्य का धब्बा (Sunspots)
- D. सौर वायु (Solar wind)

Ans  3. B

- 1. A
- 2. D
- 4. C

Question ID : 2055233949

Status : Answered

Chosen Option : 3

Q.73 यू एन कंज्यूमर बिल (UN Consumer Bill) में परिभाषित अधिकारों में उपभोक्ता अधिकार निम्न में से कौन नहीं है?

- A. वयन करने का अधिकार
- B. सुरक्षा का अधिकार
- C. प्रतियोगिता का अधिकार
- D. निवारण का अधिकार

Ans  4. C

- 1. D
- 2. A
- 3. B

Question ID : 2055233945

Status : Answered

Chosen Option : 2

Q.74

Question ID : 2055233915

राज्यसभा में विपक्ष का वर्तमान नेता कौन है?

- A. मल्लिकार्जुन खड़गे
- B. गुलाम नबी आजाद
- C. राहुल गाँधी
- D. डेरेक ओ'ब्रायन

Ans  1. C  
 2. A  
 3. B  
 4. D

Status : Answered  
 Chosen Option : 2

Q.75 आरोही क्रम व्यवस्थित प्रेक्षणों के एक सेट 11, 12, 14, 15,  $x+1$ ,  $x+3$ , 20, 23, 25, 27 की माध्यिक 17 है। तो  $x$  का मान ज्ञात कीजिए।

- A. 16
- B. 15
- C. 18
- D. 17

Ans  1. C  
 2. D  
 3. A  
 4. B

Question ID : 2055233983

Status : Answered

Chosen Option : 4

Q.76 एक कक्षा में लड़कियों का अनुपात लड़कों के अनुपात से 5:3 है। यदि कक्षा की कुल क्षमता 48 थी और 16.67% लड़कियाँ अनुपस्थित थी, तो उपस्थित लड़कियों की संख्या ज्ञात कीजिए।

- A. 15
- B. 18
- C. 5
- D. 25

Ans  1. B  
 2. C  
 3. D  
 4. A

Question ID : 2055233959

Status : Answered

Chosen Option : 3

Q.77 दुखी से हंसमुख है तो सहिष्णु से क्या है?

- A. उदास (Gloomy)
- B. भयानक (Dire)
- C. सहनशील (Patient)
- D. प्रतिवादी (Protesting)

Ans  1. A  
 2. C  
 3. B  
 4. D

Question ID : 2055233985

Status : Answered

Chosen Option : 4

Q.78

Question ID : 2055233920

Status : Not Attempted

Chosen Option : --



**रेलवे भर्ती बोर्ड  
स्टडी किट**

FOR HELP CALL  
011-45151781, 45041881

## रेलवे भर्ती बोर्ड (आरआरबी) परीक्षा अध्ययन सामग्री

- 100% Syllabus Covered
- 4 Comprehensive Books
- 1000 Pages
- Current Affairs (PDF)
- Practice MCQs
- Support and Guidance

Only  
~~₹6,000/-~~  
**₹1,995/-**  
70% Off



[www.rrbportal.com](http://www.rrbportal.com)

### प्रिय अभ्यर्थियों,

आज इस गलाकाट प्रतिस्पर्धा के दौर में, हर जगह, हर क्षेत्र में मारामारी है। बात अगर सरकारी नौकरी की हो तो प्रतिस्पर्धा और भी कड़ी हो जाती है। जैसा की आप सभी जानते हैं RRBPORTAL विगत वर्षों से आप सबों को अंग्रेजी माध्यम में एक समग्र पाठ्यक्रम एवं मार्गदर्शन उपलब्ध करा रहा है। हमारे अध्ययन सामग्री की सफलता की दर करीब 70% है। विगत कुछ वर्षों की सरकारी विज्ञप्तियों (VACANCIES) पर नजर डालें तो आप देखेंगे की सर्वाधिक संख्या Railway के विज्ञप्तियों की है, और उसी अनुपात में भीड़ भी।

मित्रों इस परीक्षा में अंग्रेजी एवं हिंदी माध्यम के छात्र लगभग समान संख्या में सम्मिलित होते हैं, लेकिन हिंदी माध्यम से तैयारी करने वाले छात्रों के साथ सबसे बड़ी समस्या विश्वसनीय अध्ययन सामग्री एवं सही मार्गदर्शन की है।

आपकी इन्हीं समस्याओं और मांग को विचार में रखकर हमने नववर्ष में आपको हिंदी माध्यम में रेलवे भर्ती बोर्ड (आरआरबी), अध्ययन सामग्री उपलब्ध कराने का निर्णय लिया है। मित्रों हमने इस बात का पूरा ध्यान रखा है की आपको पाठ्यक्रम के अनुसार सारी चीजें एक जगह मिलें। हमने व्यवस्थित तरीके से लगभग 800पृष्ठों में इस अध्ययन सामग्री को परीक्षोपयोगी बनाया है।

### आप क्या प्राप्त करेंगे?

- माध्यम: हिन्दी
- 100 प्रतिशत पाठ्यक्रम
- 838 पृष्ठ
- कुल 6 पुस्तिकायें
- Guidance & Support from Our Experts

**Price of the Kit:**

**Rs. 4,000**

**Rs. 1,995/-**  
(Limited time Offer)



**Order Online (100% Safe)**

**अन्य भुगतान विकल्प (Offline Payment Options)**

**50%  
OFF**

**CLICK HERE**

**Disclaimer: RRB EXAM PORTAL वेबसाइट किसी भी प्रकार से रेलवे भर्ती बोर्ड (RRB) के साथ संबद्ध नहीं है, रेलवे भर्ती बोर्ड एवं भारतीय रेलवे की आधिकारिक वेबसाइट पर जाने के लिए [www.rrcb.gov.in](http://www.rrcb.gov.in) पर विजिट करें।**



निम्नलिखित शहरों में से किसे प्राचीन समय में 'डेसिनगनाडू' कहा जाता था?

- A. कोल्लम
- B. मैसूर
- C. मदुराई
- D. चित्तौड़

Ans  1. A  
 2. D  
 3. B  
 4. C

Q.79 ₹ 23,465 का दूसरे वर्ष में 7.5% की दर से प्राप्त साधारण ब्याज और चक्रवृद्धि ब्याज के बीच अंतर ज्ञात कीजिए।

- A. 132
- B. 66
- C. 147
- D. 73.5

Ans  1. A  
 2. D  
 3. B  
 4. C

Question ID : 2055233968

Status : Not Attempted

Chosen Option : --

Q.80 एक MS Excel शीट पर काम करते समय, एक कक्ष में कोई फॉर्मूला दर्ज करने के लिए, फॉर्मूला से पहले क्या आना चाहिए?

- A. @
- B. =
- C. \*
- D. &

Ans  1. C  
 2. B  
 3. D  
 4. A

Question ID : 2055233947

Status : Answered

Chosen Option : 3

Q.81 यदि  $a-b = 5$  और  $a^2 + b^2 = 31$  तो  $ab$  का मान ज्ञात करें?

- A. 4
- B. 5
- C. 2
- D. 3

Ans 1. C  
 2. A  
 3. B  
 4. D

Note: For this question, discrepancy is found in question/answer. So, This question is ignored for all candidates.

Question ID : 2055233992

Status : Answered

Chosen Option : 4

Q.82 किस देश के प्रधानमंत्री के निवास को 'Temple trees' कहा जाता है?

- A. नेपाल
- B. म्यांमार
- C. श्री लंका
- D. बांग्लादेश

Ans  1. B

Question ID : 2055233919

Status : Answered

Chosen Option : 3

✓ 2. C

✗ 3. A

✗ 4. D

Q.83 'तिरुक्कुरल' नामक प्रसिद्ध ग्रंथ के संकलनकर्ता कौन हैं?

- A. कालिदास  
B. तिरुवल्लुवर  
C. कबीर  
D. मीरा बाई

Question ID : 2055233921

Status : Not Attempted

Chosen Option : --

Ans ✗ 1. C

✗ 2. A

✗ 3. D

✓ 4. B

Q.84 एक स्कूल कैटीन 3200 किलो दाल खरीदती है जो 1200 बच्चों को 20 दिन के पोषण के लिए पर्याप्त होगी। 6 दिन बाद 180 बच्चे एक महीने की लंबी यात्रा पर चले गए। बाकि बच्चों को और कितने अधिक दिन के पोषण के लिए दाल पर्याप्त होगी?

- A. 14  
B. 16.5  
C. 12.6  
D. 17.2

Question ID : 2055233964

Status : Not Attempted

Chosen Option : --

Ans ✗ 1. D

✗ 2. A

✗ 3. C

✓ 4. B

Q.85 निम्नलिखित विकल्पों में से उस एक को चुनें जो अलग या असंगत है।

- A. RPNL  
B. ZXVT  
C. CAWV  
D. JHFD

Question ID : 2055233994

Status : Answered

Chosen Option : 4

Ans ✗ 1. A

✗ 2. B

✗ 3. D

✓ 4. C

Q.86 निम्नलिखित में से कौन सी एक अमूर्त परिसंपत्ति है?

- A. साख (Goodwill)  
B. प्राप्य वस्तुएँ (Receivables)  
C. स्टॉक (Stock)  
D. नकदी (Cash)

Question ID : 2055233944

Status : Answered

Chosen Option : 4

Ans ✗ 1. D

✗ 2. C

✗ 3. B

✓ 4. A

Q.87

विश्व वन्यजीव दिवस किस दिन मनाया जाता है?

- A. 3 जून  
B. 3 मार्च  
C. 12 अप्रैल  
D. 8 सितंबर

Ans  1. C  
 2. B  
 3. D  
 4. A

Question ID : 2055233927

Status : Answered

Chosen Option : 3

Q.88 एक सफाई कंपनी 42 सफाई कर्मचारियों द्वारा एक इमारत की सफाई 25 दिनों में करने का काम लेती है। 10 दिन बाद, 12 सफाई कर्मचारी नौकरी छोड़कर चले गए। यदि सफाई का काम 10 दिनों में समाप्त किया जाना है तो और कितने सफाई कर्मचारियों को नौकरी पर रखे जाने की आवश्यकता है?

- A. 30  
B. 32  
C. 33  
D. 21

Ans  1. C  
 2. D  
 3. A  
 4. B

Question ID : 2055233965

Status : Answered

Chosen Option : 1

Q.89 वह बड़ी से बड़ी संख्या जात कीजिए जिससे 1250 तथा 1615 को विभाजित करने पर शेष क्रमशः 4 और 5 बचता है।

- A. 13  
B. 14  
C. 16  
D. 18

Ans  1. A  
 2. D  
 3. B  
 4. C

Question ID : 2055233961

Status : Answered

Chosen Option : 1

Q.90 किस पाकिस्तानी क्रिकेट एम्पायर को फरवरी 2016 में 5 वर्ष के लिए प्रतिबंधित कर दिया गया है?

- A. अकरम रजा  
B. असद राउफ  
C. साजिद अफरीदी  
D. कैसर वहीद

Ans  1. B  
 2. C  
 3. D  
 4. A

Question ID : 2055233932

Status : Not Attempted

Chosen Option : --

Q.91 प्रथम भारतीय उपग्रह आर्यभट्ट को कब प्रक्षेपित किया गया था?

- A. 1970  
B. 1973  
C. 1975  
D. 1976

Ans  1. D  
 2. A

Question ID : 2055233951

Status : Not Attempted

Chosen Option : --

✓ 3. C

✗ 4. B

Q.92 मीथेन के जलने पर क्या होता है?

- A. कार्बन मोनोऑक्साइड निकलती है  
 B. कार्बन राख शेष रह जाती है  
 C. कार्बोनेट बनता है  
 D. कार्बन डाइऑक्साइड एवं पानी निकलता है

Ans ✓ 1. D

✗ 2. C

✗ 3. A

✗ 4. B

Question ID : 2055233938

Status : Not Attempted

Chosen Option : --

Q.93 जॉन ने एक लॉटरी जीती, जिसमें सरकार ने 35% टैक्स काट लिया और 7/8वाँ भाग जॉन को तथा शेष टिकट विक्रेता को अदा किया। यदि टिकट विक्रेता को ₹ 22,343.75 प्राप्त हुए हैं, तो लॉटरी की राशि क्या थी?

- A. 2,23,437  
 B. 275,000  
 C. 264,384  
 D. 178,750

Ans ✗ 1. D

✗ 2. C

✗ 3. A

✓ 4. B

Question ID : 2055233963

Status : Answered

Chosen Option : 4

Q.94 NHRC (राष्ट्रीय मानवाधिकार आयोग, National Human Rights Commission) का अध्यक्ष किसे नियुक्त किया गया है?

- A. जे.एस. वर्मा  
 B. के. रामास्वामी  
 C. गोविंदा शर्मा  
 D. एच.एल. दत्त

Ans ✓ 1. D

✗ 2. C

✗ 3. B

✗ 4. A

Question ID : 2055233931

Status : Not Attempted

Chosen Option : --

Q.95 भारतीय संविधान के अनुसार कितनी भाषाओं को कार्यालयी (official) भाषा का दर्जा दिया गया है?

- A. 15  
 B. 18  
 C. 22  
 D. 25

Ans ✗ 1. D

✗ 2. B

✓ 3. C

✗ 4. A

Question ID : 2055233929

Status : Answered

Chosen Option : 3

Q.96

Question ID : 2055233950

Status : Answered

Chosen Option : 1

राकेश शर्मा ने जिस अंतरिक्ष यान से अंतरिक्ष की यात्रा की थी, उस का नाम क्या था?

- A. सोयुज टी-11 (Soyuz T-11)  
 B. रॉकवेल एक्स-30 (Rockwell X-30)  
 C. स्पाइरल-ईपीओएस (Spiral-EPOS)  
 D. मरकरी-एटलस 9 (Mercury-Atlas 9)

Ans  1. A

2. B

3. C

4. D

Q.97 सरल कीजिए:  $\frac{[(x^4)^{3-2a}][(x^{2a+1})^a]}{[(x^{3a-5})^2][(x^{a+1})^{2a-1}]}$

A.  $x^{4a}$

B.  $x^{23-14a}$

C.  $x^{22-7a}$

D.  $x^{23}$

Ans  1. B

2. C

3. A

4. D

Question ID : 2055233974

Status : Answered

Chosen Option : 1

Q.98 1930 में प्रथम राष्ट्रमंडल खेल, जिन्हें तब ब्रिटिश एम्पायर गेम्स के नाम से भी जाना जाता था, कहाँ खेला गया था?

- A. हैमिल्टन  
 B. लंदन  
 C. सिडनी  
 D. मैनचेस्टर

Ans  1. C

2. A

3. D

4. B

Question ID : 2055233926

Status : Not Attempted

Chosen Option : --

Q.99 N एक पूर्ण संख्या है जिसे जब 6 से विभाजित किया जाता है तो शेष 4 बचता है। यदि 2N को 6 से विभाजित किया जाये तो शेष क्या बचेगा?

- A. 4  
 B. 8  
 C. 2  
 D. शून्य

Ans  1. A

2. C

3. D

4. B

Question ID : 2055233956

Status : Answered

Chosen Option : 3

Q.10 इस श्रृंखला को देखें: G2, J8 \_\_\_\_\_ P32, S50 ..... तो रिक्त स्थान को भरने के लिए क्या उपयुक्त होगी?

- 0  
 A. M12  
 B. H12  
 C. N10  
 D. Q10

Ans  1. A

2. D

Question ID : 2055233986

Status : Answered

Chosen Option : 3

~~X~~ 3.C

~~X~~ 4.B



<a href="#">Railway Recruitment Board (RRB) <b>NTPC</b> Exams Study Kit</a>	<a href="#">English</a>	<a href="#">CLICK HERE</a>
<a href="#">रेलवे भर्ती बोर्ड <b>एनटीपीसी (NTPC)</b> परीक्षा अध्ययन सामग्री</a>	<a href="#">हिन्दी</a>	<a href="#">CLICK HERE</a>
<a href="#">RRB <b>Loco Pilot (ALP)</b> Exam Study Kit</a>	<a href="#">English</a>	<a href="#">CLICK HERE</a>
<a href="#">रेलवे भर्ती बोर्ड <b>लोको पायलट (ALP)</b> परीक्षा अध्ययन सामग्री</a>	<a href="#">हिन्दी</a>	<a href="#">CLICK HERE</a>
<a href="#">RRB <b>Group-D</b> Exam Study Kit</a>	<a href="#">English</a>	<a href="#">CLICK HERE</a>
<a href="#">रेलवे भर्ती बोर्ड <b>Group-D</b> परीक्षा अध्ययन सामग्री</a>	<a href="#">हिन्दी</a>	<a href="#">CLICK HERE</a>
<a href="#">Study Kit for RRB <b>JE (Junior Engineer)</b> Exam</a>	<a href="#">English</a>	<a href="#">CLICK HERE</a>
<a href="#">आरआरबी <b>जूनियर इंजीनियर</b> परीक्षा (चरण -1) अध्ययन किट</a>	<a href="#">हिन्दी</a>	<a href="#">CLICK HERE</a>
<b>IAS EXAMS STUDY MATERIALS</b>		
<a href="#">Study Kit for IAS (Pre) <b>GENERAL STUDIES</b> Paper-1 (GS)</a>	<a href="#">English</a>	<a href="#">CLICK HERE</a>
<a href="#">Study Kit for IAS (Pre) <b>CSAT</b> Paper-2(Aptitude)</a>	<a href="#">English</a>	<a href="#">CLICK HERE</a>
<a href="#">सामान्य अध्ययन (GS) प्रारंभिक परीक्षा (Pre) पेपर-1</a>	<a href="#">हिन्दी</a>	<a href="#">CLICK HERE</a>
<a href="#">आई. ए. एस. (सी-सैट) प्रारंभिक परीक्षा पेपर -2</a>	<a href="#">हिन्दी</a>	<a href="#">CLICK HERE</a>
<a href="#">Gist of NCERT Study Kit For UPSC Exams</a>	<a href="#">English</a>	<a href="#">CLICK HERE</a>