



RAILWAY RECRUITMENT BOARDS

रेलवे भर्ती बोर्ड

RRB NTPC 16th April 2016 Shift 3

Test Date:	16/04/2016
Test Time:	4:00 PM - 5:30 PM
Subject:	RRB NTPC Graduate

- Options shown in green color with a tick icon are correct
- Chosen option on top right of the question indicates the option selected by the candidate

Q.1 एक सीढ़ी एक सीधी (vertical) दीवार के साथ खड़ी है। सीढ़ी का शीर्ष फर्श से 9 मीटर की ऊँचाई पर है। जब सीढ़ी के निचले सिरे को और 3 मीटर दूर किया जाता है तो सीढ़ी का शीर्ष दीवार के निचले सिरे के बराबर पहुँच जाता है। सीढ़ी की लंबाई क्या है?

- A. 16 मीटर
B. 15 मीटर
C. 20 मीटर
D. 30 मीटर

Ans 1. C
 2. A
 3. B
 4. D

Question ID : 2055232832

Status : Not Attempted

Chosen Option : --

Q.2 कर (taxes) की कटौती के बाद व्यक्ति के पास उपलब्ध आय को क्या कहते हैं?

- A. प्रयोग के लिए उपलब्ध आय
B. नकद आय
C. वेतन
D. सामान्य आय

Ans 1. C
 2. D
 3. A
 4. B

Question ID : 2055232810

Status : Answered

Chosen Option : 1

Q.3 किस मूलधन का 9 वर्षों में साधारण ब्याज की 8% वार्षिक दर से वही ब्याज होगा जो 800 रुपये का 3 वर्ष में साधारण ब्याज की 9/2% वार्षिक दर पर होता है।

- A. 100 रुपये
B. 125 रुपये
C. 150 रुपये
D. 110 रुपये

Ans 1. A
 2. C
 3. D
 4. B

Question ID : 2055232827

Status : Not Attempted

Chosen Option : --

Q.4

Question ID : 2055232809

किसने 'लाइक क्यूर्स लाइक' ('like cures like') होमियोपैथिक सिद्धांत प्रस्तुत किया था?

- A. हिप्पोक्रेट्स (Hippocrates)
- B. सैमुएल हाहनेमन (Samuel Hahnemann)
- C. सैमुएल कॉकबर्न (Samuel Cockburn)
- D. जार्ज वितौल्कस (George Vithoukas)

Ans  1. D
 2. A
 3. C
 4. B

Status : **Not Attempted**
 Chosen Option : --

Q.5 यदि '<' दर्शाता है '>', '>' दर्शाता है '<', '<' दर्शाता है '>' और '@' दर्शाता है '<' तो $27 > 81 @ 9 < 6$ का मान क्या होगा?

- A. 32
- B. 33
- C. 30
- D. 35

Ans  1. C
 2. A
 3. B
 4. D

Question ID : **2055232856**
 Status : **Answered**
 Chosen Option : 1

Q.6 हमारे ग्रह धरती का नाम किस भाषा से उत्पन्न है?

- A. ग्रीक
- B. रोमन
- C. अंग्रेजी
- D. संस्कृत

Ans  1. B
 2. D
 3. C
 4. A

Question ID : **2055232819**
 Status : **Answered**
 Chosen Option : 4

Q.7 दी गई समरूपता के आधार पर, दिए गए विकल्पों में से नहीं दिया गया युग्म जात करें।

5 : 35 :: ----- : -----

- A. 11 : 55
- B. 7 : 77
- C. 3 : 24
- D. 9 : 45

Ans  1. D
 2. C
 3. A
 4. B

Question ID : **2055232863**
 Status : **Not Attempted**
 Chosen Option : --

Q.8 यदि DIJOB का अर्थ CHINA हो तो KBQBO का कूटानुवाद करने पर प्राप्त शब्द का अंतिम अक्षर होगा:

- A. I
- B. A
- C. M
- D. N

Question ID : **2055232854**
 Status : **Answered**
 Chosen Option : 1

- Ans 1. D
 2. A
 3. B
 4. C

Q.9 अव्यवस्थित अक्षरों को उनके स्वाभाविक क्रम में पुनर्व्यवस्थित करें और असंगत को चुनें।

- A. ROUWBR
 B. EDN
 C. ORFO
 D. ETNS

- Ans 1. A
 2. D
 3. B
 4. C

Question ID : 2055232872

Status : Not Attempted

Chosen Option : --

Q.10 30 लीटर नमक के घोल (solution) में 5% नमक है। इस घोल में कितने लीटर पानी और मिलाया जाना चाहिए ताकि परिणामी घोल में नमक की मात्रा 3% हो।

- A. 20 लीटर
 B. 25 लीटर
 C. 30 लीटर
 D. 35 लीटर

- Ans 1. A
 2. D
 3. C
 4. B

Question ID : 2055232831

Status : Answered

Chosen Option : 4

Q.11 यदि $(a+c+1) = 0$ है तो $(a^3+c^3+1-3ac)$ का मान ज्ञात करें।

- A. -1
 B. 1
 C. 2
 D. 0

- Ans 1. D
 2. B
 3. C
 4. A

Question ID : 2055232823

Status : Answered

Chosen Option : 4

Q.12 कथन और दो निष्कर्ष I और II नीचे दिए गए हैं। आपको दिए गए कथनों को सही मान कर चलना है चाहे वे सामान्य ज्ञात तथ्यों से भिन्न प्रतीत होते हों।

कथन: सभी पक्षी लंबे हैं। कुछ लंबे मोर हैं।

निष्कर्ष:

- I. कुछ पक्षी मोर हैं।
 II. कुछ मोर लंबे हैं।

निर्णय कीजिए कि नीचे दिए गए कौन से विकल्प दिए गए कथनों का तार्किक रूप से अनुसरण करते हैं।

- A. दोनों निष्कर्ष I और II अनुसरण करते हैं।
 B. ना तो निष्कर्ष I और ना ही निष्कर्ष II अनुसरण करता है।
 C. केवल निष्कर्ष I अनुसरण करता है।
 D. केवल निष्कर्ष II अनुसरण करता है।

- Ans 1. B
 2. D

Question ID : 2055232870

Status : Answered

Chosen Option : 4

X 3. A

X 4. C

Comprehension:

निम्नांकित सारणी का ध्यानपूर्वक अध्ययन करें और इन पर आधारित प्रश्नों के उत्तर दें।

निम्नलिखित सारणी 2005 से 2010 तक पाँच निर्माताओं द्वारा कारों की घरेलू बिक्री दर्शाती है। (सभी आंकड़े हजार में हैं)

निर्माता	2005	2006	2007	2008	2009	2010
L	440	480	470	500	520	510
M	400	410	415	415	420	430
N	380	390	390	400	420	495
O	360	380	400	415	440	500
P	480	440	440	420	425	435

SubQuestion No : 13

Q.1 दी गयी जोड़ी में से दी गयी अवधि में किस जोड़ी का कार का विक्रय सब से अधिक था?

- 3
- A. L, 2009
B. L, 2010
C. L, 2008
D. O, 2008

Ans X 1. B
X 2. C
X 3. D
✓ 4. A

Question ID : 2055232880

Status : Answered

Chosen Option : 4

Comprehension:

निम्नांकित सारणी का ध्यानपूर्वक अध्ययन करें और इन पर आधारित प्रश्नों के उत्तर दें।

निम्नलिखित सारणी 2005 से 2010 तक पाँच निर्माताओं द्वारा कारों की घरेलू बिक्री दर्शाती है। (सभी आंकड़े हजार में हैं)

निर्माता	2005	2006	2007	2008	2009	2010
L	440	480	470	500	520	510
M	400	410	415	415	420	430
N	380	390	390	400	420	495
O	360	380	400	415	440	500
P	480	440	440	420	425	435

SubQuestion No : 14

Q.1
4



Question ID : 2055232879

Status : Not Attempted

Chosen Option : --

वर्ष 2006 में, निर्माता M का कारों की घरेलू बिक्री में कितना हिस्सा था?

- A. 19.5%
- B. 10.5%
- C. 20.5%
- D. 25.5%

Ans  1. B
 2. D
 3. C
 4. A

Comprehension:

निम्नांकित सारणी का ध्यानपूर्वक अध्ययन करें और इन पर आधारित प्रश्नों के उत्तर दें।

निम्नलिखित सारणी 2005 से 2010 तक पाँच निर्माताओं द्वारा कारों की घरेलू बिक्री दर्शाती है। (सभी आंकड़े हजार में हैं)

निर्माता	2005	2006	2007	2008	2009	2010
L	440	480	470	500	520	510
M	400	410	415	415	420	430
N	380	390	390	400	420	495
O	360	380	400	415	440	500
P	480	440	440	420	425	435

SubQuestion No : 15

Q.1 2010 में किस निर्माता की बिक्री में पिछले वर्ष की तुलना में अधिकतम प्रतिशत वृद्धि दर्ज की गई है?

- A. L
- B. M
- C. N
- D. P

Ans  1. C
 2. B
 3. D
 4. A



Question ID : 2055232878

Status : Answered

Chosen Option : 1

Q.16 ABO खून ग्रूप प्रणाली का आविष्कार किसने किया था?

- A. कार्ल कोल्लर (Karl Koller)
- B. मॉरिस हिल्लेमन (Maurice Hilleman)
- C. कार्ल लैंडस्टीनर (Karl Landsteiner)
- D. एडवर्ड जेन्नर (Edward Jenner)

Ans  1. A
 2. B
 3. C

Question ID : 2055232808

Status : Answered

Chosen Option : 3

 4.D

Q.17 निम्नलिखित में से विमल शाह द्वारा निर्मित संगमरमर का मंदिर कौन सा है?

- A. दिलवाड़ा मंदिर
- B. बृहदेश्वर मंदिर
- C. ओंकारेश्वर मंदिर
- D. रानकपुर आदिनाथ मंदिर

Ans  1.C

 2.A

 3.D

 4.B

Question ID : 2055232801

Status : Answered

Chosen Option : 2

Q.18 हमारे शरीर में नमक की मात्रा कितनी होती है?

- A. 1%
- B. 2%
- C. 0.4%
- D. 0.6%

Ans  1.D

 2.B

 3.A

 4.C

Question ID : 2055232811

Status : Answered

Chosen Option : 1

Q.19 यदि भाजक $(x + 2)$, भागफल $(4x - 5)$ और शेष 12 है तो भाज्य ज्ञात कीजिए।

- A. $4x^2+5x+2$
- B. $4x^2+3x+2$
- C. $4x^2-3x+2$
- D. $4x^2+3x-2$

Ans  1.C

 2.D

 3.A

 4.B

Question ID : 2055232821

Status : Answered

Chosen Option : 4

Q.20 नई सरकारी नीति में प्याज के मूल्य में 35% की वृद्धि की जाती है। एक व्यक्ति को प्याज की खपत को कितने प्रतिशत (%) कम कर देना चाहिए कि उसके व्यय में कोई वृद्धि न हो?

- A. 25%
- B. 29%
- C. 26%
- D. 33%

Ans  1.C

 2.A

 3.D

 4.B

Question ID : 2055232836

Status : Answered

Chosen Option : 2

Q.21

Question ID : 2055232794

Status : Answered

पारंपरिक थर्मामीटर में किस तत्व, जो प्राकृतिक रूप से अत्यंत जहरीला होता है, का प्रयोग किया जाता था?

Chosen Option : 3

- A. कार्बन
- B. मर्कुरी
- C. आर्सेनिक
- D. कैडमियम

Ans  1. A
 2. B
 3. C
 4. D

Q.22 अतुल और विनय एक साथ मिलकर एक काम को 5 दिनों में पूरा करते हैं। यदि विनय अकेला इसी काम को 8 दिनों में समाप्त कर सकता है तो अतुल अकेला उसी काम को कितने दिनों में समाप्त करेगा?

- A. 40/3 दिन
- B. 20/3 दिन
- C. 9 दिन
- D. 10 दिन

Ans  1. B
 2. A
 3. D
 4. C

Question ID : 2055232828

Status : Not Attempted

Chosen Option : --

Q.23 यदि दो संपूरक कोण 11:7 के अनुपात में है तो छोटा कोण ज्ञात कीजिए।

- A. 35°
- B. 55°
- C. 45°
- D. 25°

Ans  1. B
 2. D
 3. C
 4. A

Question ID : 2055232840

Status : Not Attempted

Chosen Option : --

Q.24 निम्नलिखित कथनों पर विचार कीजिए और सही विकल्प का चयन करें:

1. दिये गये 2 बिंदुओं से कम से कम 3 सीधी रेखाएँ खींचना संभव है।
 2. यदि एक कोण की भुजाएँ क्रमशः दूसरे कोण की भुजाओं के समानांतर हैं तो दोनों कोण न तो बराबर होते हैं और न ही अनुपूरक।
- A. 1 और 2 दोनों सही नहीं हैं।
 - B. 1 और 2 दोनों सही हैं।
 - C. 1 गलत है और 2 सही है।
 - D. 1 सही है और 2 गलत है।

Ans  1. D
 2. C
 3. B
 4. A

Question ID : 2055232841

Status : Not Attempted

Chosen Option : --

Q.25 15 और 85 के बीच कितनी प्राकृतिक संख्याएँ हैं जो 7 से विभाजित होती हैं?

- A. 9
- B. 10
- C. 8
- D. 7

Question ID : 2055232839

Status : Not Attempted

Chosen Option : --

RRB NTPC EXAM Study Kit



- ▶ 100% Exam Syllabus Covered
- ▶ 4 Books, 950+ Pages
- ▶ Mathematics, General Intelligence & Reasoning,
- ▶ General Science, General Awareness
- ▶ Previous year Solved Papers
- ▶ Mock Tests with Answers
- ▶ 1 Year Current Affairs



₹ 6,000/-
₹ 1,999/-
Only



For RRB Exam Courses & Study Materials Call Us at: +91-8800734161

What you will get:

- 100% Syllabus Covered in printed format.
- 4 Booklets
 - General Intelligence & Reasoning
 - General Awareness
 - Arithmetic
 - General Science
- 950+ Pages
- One Year Current Affairs (PDF Copy)
- Guidance & Support from Our Experts

Price of the Kit:

Rs. 6,000

Rs. 1,999/-

(Limited time Offer)



Net Banking

Order Online (100% Safe)

अन्य भुगतान विकल्प (Offline Payment Options)

**50%
OFF**

CLICK HERE

**Disclaimer: rrbexamportal.com is not associated with Railway Recruitment Board,
For RRB official website visit - www.rrcb.gov.in**

- Ans 1. B
 2. D
 3. C
 4. A

Q.26 जिस प्रकार इंजीनियर संबंधित है इंजीनियरिंग से, उसी प्रकार डॉक्टर निम्नलिखित में से किससे संबंधित है?

- A. दवाई
 B. अस्पताल
 C. बिमारी
 D. शरीर

- Ans 1. B
 2. D
 3. C
 4. A

Question ID : 2055232861

Status : Not Attempted

Chosen Option : --

Q.27 एक बंटन का माध्य 21 है और मानक विचलन 7 है। विचरण गुणांक का मान क्या है?

- A. 16.66%
 B. 66.66%
 C. 33.33%
 D. 100%

- Ans 1. D
 2. A
 3. C
 4. B

Question ID : 2055232843

Status : Not Attempted

Chosen Option : --

Q.28 एक चम्मच जो टेड़ा दिखता है, किसका उदाहरण है?

- A. प्रतिबिंबन (Reflection)
 B. अपवर्तन (Refraction)
 C. धारण (Retention)
 D. केंद्र बिंदु (Focus)

- Ans 1. A
 2. C
 3. B
 4. D

Question ID : 2055232802

Status : Answered

Chosen Option : 3

Q.29 नवीन एक गैस सिलेंडर और एक स्टोव 4500 रुपये में खरीदता है। वह गैस सिलेंडर 25% के लाभ पर और स्टोव 20% की हानि पर बेच देता है तथा उसे पूरी बिक्री पर 4% का लाभ होता है। गैस सिलेंडर का क्रय मूल्य ज्ञात कीजिए।

- A. 3600 रुपये
 B. 2400 रुपये
 C. 3000 रुपये
 D. 2600 रुपये

- Ans 1. B
 2. A
 3. D
 4. C

Question ID : 2055232846

Status : Not Attempted

Chosen Option : --

Q.30 निम्नलिखित में से कौन से विकल्प में, भारत के उपराष्ट्रपति बनने हेतु अर्हता नहीं है?

- A. भारतीय नागरिक
- B. 35 वर्ष की आयु से अधिक
- C. लोक सभा की सदस्यता का धारक
- D. राज्यसभा की सदस्यता का धारक

Ans 1. B
 2. C
 3. D
 4. A

Question ID : 2055232796

Status : Answered

Chosen Option : 2

Q.31 चार शब्दों में से एक शब्द एक वर्ग (class) है जिससे अन्य तीन संबंधित हैं। उस वर्ग (class) को पहचानें।

- A. उपन्यास
- B. किताब
- C. कविता
- D. लघु कथा

Ans 1. A
 2. D
 3. C
 4. B

Question ID : 2055232860

Status : Answered

Chosen Option : 4

Q.32 पाँच क्रमागत सम संख्याओं का औसत 40 है। इन संख्याओं में से सबसे छोटी संख्या का मान ज्ञात कीजिए।

- A. 35
- B. 36
- C. 44
- D. 48

Ans 1. B
 2. D
 3. A
 4. C

Question ID : 2055232835

Status : Answered

Chosen Option : 2

Q.33 BRICS डेवलपमेंट बैंक को अब यह नाम दिया गया है?

- A. एशिया डेवलपमेंट बैंक (Asia Development Bank)
- B. वर्ल्ड बैंक (World Bank)
- C. न्यू डेवलपमेंट बैंक (New Development Bank)
- D. न्यू BRICS बैंक (New BRICS Bank)

Ans 1. D
 2. C
 3. B
 4. A

Question ID : 2055232782

Status : Answered

Chosen Option : 4

Q.34 किसने प्रशासनिक प्रबंधन विचारधारा के विरुद्ध वैज्ञानिक प्रबंधन विचारधारा का प्रस्ताव प्रस्तुत किया था?

- A. हेनरी फेयॉल (Henry Fayol)
- B. फ्रेडरिक टेलर (Frederick Taylor)
- C. पीटर ड्रुकर (Peter Drucker)
- D. मैक्स वेबर (Max Weber)

Ans 1. C

Question ID : 2055232812

Status : Not Attempted

Chosen Option : --

2. A 3. D 4. B

Q.35 अव्यवस्थित अक्षरों को उनके स्वाभाविक क्रम में पुनर्व्यवस्थित करें और असंगत को चुनें।

- A. ESAEIDS
- B. EAHLTH
- C. LISESNL
- D. CKSESNSI

Ans 1. C

 2. B 3. A 4. D

Question ID : 2055232871

Status : Not Attempted

Chosen Option : --

Q.36 नीचे एक अभिकथन (A) और एक कारण (R) दिया गया है।

अभिकथन (A): भारत में पुरुषों की तुलना में महिलाओं की आयु प्रत्याशिता अधिक होती है।

कारण (R): महिलाएं बेहतर आहार लेती हैं।

सही विकल्प चुनें।

- A. A सही है लेकिन R गलत है।
- B. A गलत है लेकिन R सही है।
- C. A और R दोनों सही हैं।
- D. A और R दोनों गलत हैं।

Ans 1. B

 2. C 3. A 4. D

Question ID : 2055232882

Status : Answered

Chosen Option : 2

Q.37 महाराष्ट्र के किस शहर में प्रस्तावित नया AIIMS स्थापित किया जाने वाला है?

- A. नागपुर
- B. मुंबई
- C. औरंगाबाद
- D. पुणे

Ans 1. C

 2. A 3. D 4. B

Question ID : 2055232781

Status : Answered

Chosen Option : 3

Q.38 आम आदमी पार्टी का गठन किस वर्ष में किया गया था?

- A. 2010
- B. 2011
- C. 2012
- D. 2013

Ans 1. A

 2. B

Question ID : 2055232799

Status : Answered

Chosen Option : 3

✓ 3. C

✗ 4. D

Q.39 विकास 4 रुपये के 5 केले खरीदता है और 5 रुपये में 4 केले बेच देता है। उसका लाभ% ज्ञात कीजिए।

- A. 55.56%
B. 53.25%
C. 45.50%
D. 56.25%

Ans ✓ 1. D

✗ 2. C

✗ 3. B

✗ 4. A

Question ID : 2055232848

Status : Answered

Chosen Option : 2

Q.40 यदि 'W' का अर्थ 'x', 'X' का अर्थ '-', 'Y' का अर्थ '+' और 'Z' का अर्थ '÷' हो तो
 $28 Z 7 W 8 X 6 Y 4 = ?$

- A. 30
B. 3/2
C. 32
D. 34

Ans ✓ 1. A

✗ 2. D

✗ 3. C

✗ 4. B

Question ID : 2055232858

Status : Answered

Chosen Option : 1

Q.41 निम्नलिखित में से चिहनों और संख्याओं के किस परस्पर बदलाव से दिए गए समीकरण को सही कर सकते हैं?

$$3 + 5 - 2 = 4$$

- A. + और -, 2 और 5
B. + और -, 3 और 4
C. + और -, 2 और 4
D. + और -, 3 और 5

Ans ✗ 1. A

✗ 2. B

✓ 3. D

✗ 4. C

Question ID : 2055232857

Status : Not Attempted

Chosen Option : --

Q.42 यदि $(x + y)^2 - xy = 0$ है, तो $(x^3 - y^3) / (x - y)$ का मान ज्ञात कीजिए।

- A. 2
B. 3
C. 0
D. 5

Ans ✓ 1. C

✗ 2. A

✗ 3. D

✗ 4. B

Question ID : 2055232822

Status : Not Attempted

Chosen Option : --

Q.43

Question ID : 2055232787

Status : Answered

पूर्व चोला राजाओं में से किसे सबसे महान माना जाता है?

Chosen Option : 4

- A. पुलकेशी II
- B. राजसिम्हा
- C. करीकला
- D. नन्दीवर्मन

Ans  1. B
 2. D
 3. C
 4. A

Q.44 चित्तौड़गढ़, किस वंश की राजधानी थी?

Question ID : 2055232788

Status : Answered

Chosen Option : 2

- A. चौहान
- B. सिसोदिया
- C. हाड़ा
- D. राठौड़

Ans  1. D
 2. B
 3. C
 4. A

Q.45 यदि DRIVER को 5 और BELIEVED को 7 कोडित किया जाता है तो EXAMINATION का कोड क्या होगा?

Question ID : 2055232851

Status : Answered

Chosen Option : 3

- A. 9
- B. 10
- C. 11
- D. 8

Ans  1. A
 2. D
 3. B
 4. C

Q.46 नीचे एक अभिकथन (A) और एक कारण (R) दिया गया है।

Question ID : 2055232883

Status : Answered

Chosen Option : 2

अभिकथन (A): शिमला दिल्ली की अपेक्षा ठंडा है।

कारण (R): शिमला, दिल्ली की तुलना में ज्यादा ऊंचाई पर है।

सही विकल्प चुनें।

- A. A सही है लेकिन R गलत है।
- B. A गलत है लेकिन R सही है।
- C. A और R दोनों सही हैं और R, A की उचित व्याख्या है।
- D. A और R दोनों सही हैं लेकिन R, A की उचित व्याख्या नहीं है।

Ans  1. C
 2. D

3. B
 4. A

Q.47 वर्ष 1980 में अखिल इंग्लैंड चैंपियनशिप में सर्वप्रथम किस भारतीय बैडमिंटन खिलाड़ी ने पुरुष एकल खिताब जीता था?

- A. प्रकाश पडुकोण
 B. पुल्लेला गोपीचंद
 C. सय्यद मोदी
 D. घेतन आनंद

Ans 1. A

2. C
 3. B
 4. D

Question ID : 2055232792

Status : Answered

Chosen Option : 3

Q.48 यदि MACHINE को 19-7-9-14-15-20-11 कोडित किया जाता है तो आप DANGER को क्या कोडित करेंगे?

- A. 10-7-20-13-11-24
 B. 13-7-20-11-10-25
 C. 11-7-20-16-11-24
 D. 13-7-20-9-11-25

Ans 1. D

2. C
 3. B
 4. A

Question ID : 2055232852

Status : Not Attempted

Chosen Option : --

Q.49 एक लड़का अपनी वास्तविक गति की 10/9 गति से दौड़ता हुआ 2 घंटे 20 मिनट 24 सेकंड में 39 कि.मी. दूरी तय करता है। लड़के की वास्तविक गति जात कीजिए।

- A. 15 कि.मी./घंटा
 B. 50 कि.मी./घंटा
 C. 39 कि.मी./घंटा
 D. 150 कि.मी./घंटा

Ans 1. C

2. A
 3. B
 4. D

Question ID : 2055232850

Status : Not Attempted

Chosen Option : --

Q.50 18वीं मेसर्स क्वालिटी ऑफ लाइफ स्टडी (Mercer Quality of Life study) के अनुसार, विश्व में किस शहर को रहने हेतु सर्वोत्तम मान प्रथम स्थान मिला है?

- A. जूरिच
 B. वियन्ना
 C. सिडनी
 D. हैदराबाद

Ans 1. A

2. B
 3. D
 4. C

Question ID : 2055232783

Status : Answered

Chosen Option : 4

Q.51 नीचे एक अभिकथन (A) और एक कारण (R) दिया गया है।

अभिकथन (A): भारत में स्मार्टफोन उपयोगकर्ताओं की संख्या में तेजी से वृद्धि होती हुई दिख रही है।

कारण (R): उत्तम 3G और 4G कवरेज सस्ती कीमत के साथ है।

सही विकल्प चुनें।

- A. A सही है लेकिन R गलत है।
 B. A गलत है लेकिन R सही है।
 C. A और R दोनों सही हैं और R, A की उचित व्याख्या है।
 D. A और R दोनों सही हैं लेकिन R, A की उचित व्याख्या नहीं है।

Question ID : 2055232881

Status : Answered

Chosen Option : 3



**रेलवे भर्ती बोर्ड (आरआरबी)
परीक्षा अध्ययन सामग्री**

- 100% Syllabus Covered
- 4 Comprehensive Books
- 1000 Pages
- Current Affairs (PDF)
- Practice MCQs
- Support and Guidance

Only
~~₹6,000/-~~
₹1,995/-
70% Off



www.rrbportal.com

प्रिय अभ्यर्थियों,

आज इस गलाकाट प्रतिस्पर्धा के दौर में, हर जगह, हर क्षेत्र में मारामारी है। बात अगर सरकारी नौकरी की हो तो प्रतिस्पर्धा और भी कड़ी हो जाती है। जैसा की आप सभी जानते हैं RRBPORTAL विगत वर्षों से आप सबों को अंग्रेजी माध्यम में एक समग्र पाठ्यक्रम एवं मार्गदर्शन उपलब्ध करा रहा है। हमारे अध्ययन सामग्री की सफलता की दर करीब 70% है। विगत कुछ वर्षों की सरकारी विज्ञप्तियों (VACANCIES) पर नजर डालें तो आप देखेंगे की सर्वाधिक संख्या Railway के विज्ञप्तियों की है, और उसी अनुपात में भीड़ भी।

मित्रों इस परीक्षा में अंग्रेजी एवं हिंदी माध्यम के छात्र लगभग समान संख्या में सम्मिलित होते हैं, लेकिन हिंदी माध्यम से तैयारी करने वाले छात्रों के साथ सबसे बड़ी समस्या विश्वसनीय अध्ययन सामग्री एवं सही मार्गदर्शन की है।

आपकी इन्हीं समस्याओं और मांग को विचार में रखकर हमने नववर्ष में आपको हिंदी माध्यम में रेलवे भर्ती बोर्ड (आरआरबी), अध्ययन सामग्री उपलब्ध कराने का निर्णय लिया है। मित्रों हमने इस बात का पूरा ध्यान रखा है की आपको पाठ्यक्रम के अनुसार सारी चीजें एक जगह मिलें। हमने व्यवस्थित तरीके से लगभग 800पृष्ठों में इस अध्ययन सामग्री को परीक्षोपयोगी बनाया है।

आप क्या प्राप्त करेंगे?

- माध्यम: हिन्दी
- 100 प्रतिशत पाठ्यक्रम
- 838 पृष्ठ
- कुल 6 पुस्तिकायें
- Guidance & Support from Our Experts

Price of the Kit:

Rs. 4,000

Rs. 1,995/-
(Limited time Offer)



Order Online (100% Safe)

अन्य भुगतान विकल्प (Offline Payment Options)

**50%
OFF**

CLICK HERE

Disclaimer: RRB EXAM PORTAL वेबसाइट किसी भी प्रकार से रेलवे भर्ती बोर्ड (RRB) के साथ संबद्ध नहीं है, रेलवे भर्ती बोर्ड एवं भारतीय रेलवे की आधिकारिक वेबसाइट पर जाने के लिए www.rrcb.gov.in पर विजिट करें।

- Ans 1. B
 2. A
 3. D
 4. C

Q.52 यदि क्षैतिज जमीन पर एक ऊर्ध्वाधर पोल की छाया की लंबाई इसकी ऊंचाई की $\sqrt{3}$ गुना है तो उन्नयन कोण है:

- A. 40°
 B. 50°
 C. 30°
 D. 45°

- Ans 1. A
 2. B
 3. D
 4. C

Question ID : 2055232833

Status : Not Attempted

Chosen Option : --

Q.53 कंप्यूटर नेटवर्क के संबंध में TCP का विस्तार क्या है?

- A. ट्रंसमिशन कंट्रोल प्रोटोकॉल (Transmission Control Protocol)
 B. ट्रांसफर कॉल प्लान (Transfer Call Plan)
 C. ट्रांसफर कंट्रोल प्रोसेस (Transfer Control Process)
 D. ट्रंसमिशन कॉल प्रोटोकॉल (Transmission Call Protocol)

- Ans 1. C
 2. D
 3. A
 4. B

Question ID : 2055232814

Status : Answered

Chosen Option : 1

Q.54 यदि एक जनसंख्या का मानक विचलन 6.5 है तो इसका प्रसरण क्या होगा?

- A. 40.25
 B. 42.25
 C. 18.25
 D. 13

- Ans 1. B
 2. A
 3. D
 4. C

Question ID : 2055232845

Status : Not Attempted

Chosen Option : --

Q.55 दो संख्याओं का HCF 19 है तथा उनका LCM 665 है। यदि एक संख्या 95 है, तो दूसरी संख्या ज्ञात कीजिए।

- A. 19
 B. 133
 C. 190
 D. 77

- Ans 1. D
 2. C
 3. A
 4. B

Question ID : 2055232824

Status : Answered

Chosen Option : 4

Comprehension:

निम्नलिखित प्रश्न नीचे दी गई जानकारी पर आधारित हैं:

60 विद्यार्थियों के समूह में से 25 क्रिकेट खेलते हैं, 30 फुटबॉल खेलते हैं, 24 वॉलीबॉल खेलते हैं, 10 क्रिकेट और फुटबॉल खेलते हैं, 9 क्रिकेट और वॉलीबॉल खेलते हैं, 12 वॉलीबॉल और फुटबॉल खेलते हैं और 5 तीनों खेल खेलते हैं।

SubQuestion No : 56

Q.5 कितने विद्यार्थी केवल क्रिकेट खेलते हैं?

A. 11

B. 13

C. 8

D. 5

Ans 1. B

2. A

3. C

4. D

Question ID : 2055232874

Status : Not Attempted

Chosen Option : --

Comprehension:

निम्नलिखित प्रश्न नीचे दी गई जानकारी पर आधारित हैं:

60 विद्यार्थियों के समूह में से 25 क्रिकेट खेलते हैं, 30 फुटबॉल खेलते हैं, 24 वॉलीबॉल खेलते हैं, 10 क्रिकेट और फुटबॉल खेलते हैं, 9 क्रिकेट और वॉलीबॉल खेलते हैं, 12 वॉलीबॉल और फुटबॉल खेलते हैं और 5 तीनों खेल खेलते हैं।

SubQuestion No : 57

Q.5 कितने विद्यार्थी इनमें से कोई भी खेल नहीं खेलते हैं?

A. 5

B. 2

C. 7

D. 1

Ans 1. B

2. D

3. C

4. A

Question ID : 2055232876

Status : Not Attempted

Chosen Option : --

Comprehension:

निम्नलिखित प्रश्न नीचे दी गई जानकारी पर आधारित हैं:

60 विद्यार्थियों के समूह में से 25 क्रिकेट खेलते हैं, 30 फुटबॉल खेलते हैं, 24 वॉलीबॉल खेलते हैं, 10 क्रिकेट और फुटबॉल खेलते हैं, 9 क्रिकेट और वॉलीबॉल खेलते हैं, 12 वॉलीबॉल और फुटबॉल खेलते हैं और 5 तीनों खेल खेलते हैं।

SubQuestion No : 58

Q.5
8

Question ID : 2055232875

Status : Not Attempted

Chosen Option : --

कितने विद्यार्थी केवल दो खेल खेलते हैं?

- A. 7
- B. 13
- C. 5
- D. 16

Ans  1. C
 2. D
 3. B
 4. A

Q.59 'फ्री स्टाइल' (Freestyle) शब्द किस खेल से जुड़ा हुआ है?

- A. टेन्निस
- B. खो खो
- C. कबड्डी
- D. तैराकी

Ans  1. B
 2. D
 3. C
 4. A

Question ID : 2055232793

Status : Answered

Chosen Option : 4

Q.60 यदि एक त्रिभुज के कोणों का अनुपात 2:5:8 है, तो सबसे बड़े कोण का मान ज्ञात कीजिए।

- A. 36°
- B. 96°
- C. 84°
- D. 60°

Ans  1. C
 2. A
 3. D
 4. B

Question ID : 2055232842

Status : Not Attempted

Chosen Option : --

Q.61 वर्ष 2016 में 'एमी' डॉक्युमेंटरी हेतु किसने अकादमी अवॉर्ड जीता है?

- A. ड्यूक जॉनसन (Duke Johnson)
- B. आसिफ कपाडिया (Asif Kapadia)
- C. स्टीवन स्पीलबर्ग (Steven Spielberg)
- D. जॉर्ज मिल्लर (George Miller)

Ans  1. D
 2. A
 3. C
 4. B





Question ID : 2055232798

Status : Answered

Chosen Option : 4

Q.62 निम्नलिखित में से किसका निर्माण प्राचीन इन्कास (Incas) द्वारा किया गया था?

- A. पेद्रा शहर (City of Petra)
- B. हागिया सोफिया (Hagia Sophia)
- C. माचू पिच्चू (Machu Picchu)
- D. एक्रोपोलिस (Acropolis)

Ans  1. B
 2. A
 3. C
 4. D

Question ID : 2055232800

Status : Answered

Chosen Option : 2

Q.63 दिए गए विकल्पों में से युग्म चुनें जो पहले युग्म के शब्दों की भांति आपस में संबंधित हो
चांद : उपग्रह :: पृथ्वी : -----

- A. हवा
- B. ग्रह
- C. सूर्य
- D. सागर

Ans  1. A
 2. C
 3. B
 4. D

Question ID : 2055232859

Status : Answered

Chosen Option : 3

Q.64 अनिल एक काम को 14 दिनों में और रोहित उसी काम को 21 दिनों में कर सकता है। दोनों एक साथ मिलकर कुछ दिन काम करते हैं और उसके बाद अनिल काम छोड़ देता है। यदि रोहित ने 3 दिन तक अकेले काम किया है तो इस काम को समाप्त होने में लगे दिनों की कुल संख्या है:

- A. 31/5
- B. 51/5
- C. 21/5
- D. 13/5

Ans  1. C
 2. B
 3. D
 4. A


Question ID : 2055232829

Status : Not Attempted

Chosen Option : --

Q.65 तलवार जैसी चोंच वाले हम्मिंगबर्ड (sword-billed hummingbird) के बारे में विशेष क्या है?

- A. यह विश्व की सबसे छोटी चिड़िया है।
- B. इसकी चोंच, इसके शरीर से लंबी होती है।
- C. यह केवल अंटार्क्टिका में रहती है।
- D. यह उड़ नहीं सकती।

Ans  1. A
 2. C
 3. D
 4. B

Question ID : 2055232806

Status : Answered

Chosen Option : 1

Q.66 निम्नलिखित में से 1976 वर्ष में विकसित सर्वप्रथम सुपर कंप्यूटर कौन सा है?

- A. एक्रॉन एटम (Acorn Atom)
- B. क्रे-1 (Cray-1)
- C. PCW
- D. PET

Ans

Question ID : 2055232815

Status : Answered

Chosen Option : 1

- ✓ 1. B
 ✗ 2. C
 ✗ 3. A
 ✗ 4. D

Q.67 डॉक्ट्रिन ऑफ लैप्स नीति (Doctrine of Lapse) किसने बनाई थी?

- A. लॉर्ड कर्ज़न (Lord Curzon)
 B. लॉर्ड माउंटबैटन (Lord Mountbatten)
 C. लॉर्ड डलहाउज़ी (Lord Dalhousie)
 D. रॉबर्ट कलाइव (Robert Clive)

Question ID : 2055232790

Status : Answered

Chosen Option : 2

- Ans ✗ 1. A
 ✓ 2. C
 ✗ 3. B
 ✗ 4. D

Q.68 प्लूटो के चांद का नाम क्या है?

- A. चेरॉन (Charon)
 B. गनिमीड (Ganymede)
 C. लूना (Luna)
 D. ट्राइटन (Triton)

Question ID : 2055232817

Status : Answered

Chosen Option : 3

- Ans ✓ 1. A
 ✗ 2. C
 ✗ 3. B
 ✗ 4. D

Q.69 चार अलग-अलग सड़क क्रॉसिंग पर ट्रैफिक लाइट क्रमशः प्रत्येक 15 सेकंड, 18 सेकंड, 27 सेकंड और 30 सेकंड पर बदलती हैं। यदि वे सभी 6:10:00 बजे एक साथ बदली थी तो अब वे एक साथ कितने बजे बदलेंगी?

- A. 6:14:30 बजे
 B. 6:40:00 बजे
 C. 6:14:00 बजे
 D. 10:40:00 बजे

Question ID : 2055232825

Status : Not Attempted

Chosen Option : --

- Ans ✗ 1. B
 ✗ 2. D
 ✓ 3. A
 ✗ 4. C

Q.70 भारत में निम्नलिखित में से कौन से राज्य में सर्वाधिक क्षेत्र मैंग्रोव (mangroves) के तहत है?

- A. गुजरात
 B. आंध्रप्रदेश
 C. महाराष्ट्र
 D. पश्चिम बंगाल

Question ID : 2055232795

Status : Answered

Chosen Option : 3

- Ans ✗ 1. A
 ✗ 2. C
 ✓ 3. D



RRB NTPC

Railway Recruitment Board

RRB NTPC (Tier -1 & Tier -2) Exam

- [RRB NTPC \(Tier -1\) Exam](#)
- [RRB NTPC \(Tier -2\) Exam](#)
- [Exam PAPERS](#)
- [Exam Syllabus](#)
- [Eligibility](#)
- [Medical Fitness](#)
- [RRB Post Preference & Zones List](#)
- [परीक्षा सिलेबस "Exam Syllabus in Hindi"](#)
- [Printed Study Material \(English Medium\)](#)
- [RRB NTPC Exam for Aptitude Test](#)
- [RRB NTPC Exam for Typing Skill Test](#)

[CLICK HERE](#)

**Disclaimer: rrbexamportal.com is not associated with Railway Recruitment Board,
For RRB official website visit - www.rrcb.gov.in**

 4. B

Q.71 यदि $A:B=3:4$ है और $B:C=6:5$ है, तो $A: (A+C)$ क्या होगा?

- A. 9:11
- B. 9:10
- C. 9:19
- D. 6:7

Ans  1. C

-  2. A
-  3. B
-  4. D

Question ID : 2055232830

Status : Not Attempted

Chosen Option : --

Q.72 दी गई समरूपता के आधार पर, दिए गए विकल्पों में से नहीं दी गयी संख्या ज्ञात करें।
49 : 81 :: 100 : ----

- A. 144
- B. 169
- C. 225
- D. 64

Ans  1. B

-  2. D
-  3. A
-  4. C

Question ID : 2055232864

Status : Answered

Chosen Option : 3

Q.73 चिल्लियांवाला (Chillianwala) युद्ध कब लड़ा गया था?

- A. 1865
- B. 1892
- C. 1849
- D. 1856

Ans  1. C

-  2. B
-  3. A
-  4. D

Question ID : 2055232789

Status : Not Attempted

Chosen Option : --

Q.74 भारत के किस राज्य में सर्वाधिक वन क्षेत्र है?

- A. केरला
- B. मध्यप्रदेश
- C. महाराष्ट्र
- D. बिहार

Ans  1. B

-  2. D

Question ID : 2055232785

Status : Answered

Chosen Option : 1

✗ 3. A

✗ 4. C

Q.75 सिंगापुर का पुराना नाम क्या है?

- A. टेमासेक (Temasek)
 B. म्यानमार (Myanmar)
 C. सिलोन (Ceylon)
 D. बोहिमिया (Bohemia)

Ans ✗ 1. B

✗ 2. D

✗ 3. C

✓ 4. A

Question ID : 2055232786

Status : Answered

Chosen Option : 2

Q.76 उस प्रक्रिया का क्या नाम है, जिसमें गैस सीधे ही ठोस वस्तु (सॉलिड) में परिवर्तित हो जाती है?

- A. सब्लिमेशन
 B. डिपोज़िशन
 C. कंडनसेशन
 D. इवैपोरेशन

Ans ✓ 1. B

✗ 2. D

✗ 3. A

✗ 4. C

Question ID : 2055232804

Status : Not Attempted

Chosen Option : --

Q.77 मदुरै शहर किस नदी के तट पर स्थित है?

- A. कूवम
 B. कावेरी
 C. वर्डगै
 D. पेन्नार

Ans ✓ 1. C

✗ 2. D

✗ 3. A

✗ 4. B

Question ID : 2055232784

Status : Answered

Chosen Option : 1

Comprehension:

निम्नलिखित जानकारी का ध्यानपूर्वक अध्ययन करें और इसके नीचे दिए गए प्रश्नों के उत्तर दें।

एक परिवार में छह सदस्य हैं, तीन पुरुष और तीन महिला। इनमें से दो विवाहित दम्पति और दो अविवाहित व्यक्ति हैं। उनमें से प्रत्येक अलग-अलग रंग पसंद करते हैं, अर्थात् नीला, लाल, गुलाबी, हरा, पीला और सफेद।

सीमा जो लाल रंग पसंद करती है, अनीता की सास है और अनीता राजा की पत्नी है। दिनेश रोहन का पिता है और उसे नीला या सफेद रंग पसंद नहीं है। भाव्या को पीला रंग पसंद है और वह रोहन की बहन है, जिसे गुलाबी रंग पसंद है, राजा सफेद रंग का प्रयोग नहीं करता।

SubQuestion No : 78

Q.7 निम्नलिखित में से कौन सा रंग अनीता को पसंद है?

- A. सफेद
B. पीला
C. गुलाबी
D. हरा

Question ID : 2055232868

Status : Answered

Chosen Option : 4

Ans  1. A 2. B 3. D 4. C

Comprehension:

निम्नलिखित जानकारी का ध्यानपूर्वक अध्ययन करें और इसके नीचे दिए गए प्रश्नों के उत्तर दें।

एक परिवार में छह सदस्य हैं, तीन पुरुष और तीन महिला। इनमें से दो विवाहित दम्पति और दो अविवाहित व्यक्ति हैं। उनमें से प्रत्येक अलग-अलग रंग पसंद करते हैं, अर्थात नीला, लाल, गुलाबी, हरा, पीला और सफेद।

सीमा जो लाल रंग पसंद करती है, अनीता की सास है और अनीता राजा की पत्नी है। दिनेश रोहन का पिता है और उसे नीला या सफेद रंग पसंद नहीं है। भाव्या को पीला रंग पसंद है और वह रोहन की बहन है, जिसे गुलाबी रंग पसंद है, राजा सफेद रंग का प्रयोग नहीं करता।

SubQuestion No : 79

Q.7 रोहन सीमा से किस प्रकार संबंधित है?

- A. भाई
B. बेटा
C. पिता
D. इनमें से कोई नहीं

Question ID : 2055232869

Status : Not Attempted

Chosen Option : --

Ans  1. A 2. D 3. B 4. C

Comprehension:

निम्नलिखित जानकारी का ध्यानपूर्वक अध्ययन करें और इसके नीचे दिए गए प्रश्नों के उत्तर दें।

एक परिवार में छह सदस्य हैं, तीन पुरुष और तीन महिला। इनमें से दो विवाहित दम्पति और दो अविवाहित व्यक्ति हैं। उनमें से प्रत्येक अलग-अलग रंग पसंद करते हैं, अर्थात नीला, लाल, गुलाबी, हरा, पीला और सफेद।

सीमा जो लाल रंग पसंद करती है, अनीता की सास है और अनीता राजा की पत्नी है। दिनेश रोहन का पिता है और उसे नीला या सफेद रंग पसंद नहीं है। भाव्या को पीला रंग पसंद है और वह रोहन की बहन है, जिसे गुलाबी रंग पसंद है, राजा सफेद रंग का प्रयोग नहीं करता।

SubQuestion No : 80

Q.8
0

Question ID : 2055232867

निम्नलिखित में कौनसा एक विवाहित जोड़ा है?

- A. रोहन - भाव्या
- B. दिनेश - भाव्या
- C. दिनेश - सीमा
- D. रोहन - सीमा

Ans 1. C
 2. D
 3. B
 4. A

Status : **Not Attempted**
 Chosen Option : --

Q.81 मास प्रति यूनिट वॉल्युम क्या है?

- A. बल
- B. कार्य
- C. घनत्व
- D. दबाव

Ans 1. D
 2. B
 3. C
 4. A

Question ID : **2055232805**
 Status : **Answered**
 Chosen Option : 1

Q.82 सोनम की आयु 8 वर्ष बाद उसके पिता की आयु की आधी होगी। 8 वर्ष पहले, उनकी आयु का अनुपात 1:3 था। सोनम के पिता की वर्तमान आयु ज्ञात कीजिए।

- A. 48
- B. 56
- C. 36
- D. 65

Ans 1. D
 2. B
 3. A
 4. C

Question ID : **2055232834**
 Status : **Answered**
 Chosen Option : 3

Q.83 ट्विटर किसने संस्थापित किया था?

- A. मार्क ज़करबर्ग (Mark Zuckerberg)
- B. टिम कुक (Tim Cook)
- C. नोह अर्क (Noah Ark)
- D. इवान विलियम्स (Evan Williams)

Ans 1. A
 2. C
 3. D

Question ID : **2055232813**
 Status : **Answered**
 Chosen Option : 1

 4. B

Q.84 यदि 'x' का अर्थ '-', '+' का अर्थ 'x', '-' का अर्थ '+' और '+' का अर्थ '-' हो तो $15 - 2 + 900 + 90 \times 100$ का मान क्या होगा?

- A. 60
B. -60
C. 0
D. 1

Ans  1. C

 2. A

 3. B

 4. D

Question ID : 2055232855

Status : Answered

Chosen Option : 3

Q.85 दी गई समरूपता के आधार पर, दिए गए विकल्पों में से नहीं दिया गया शब्द जात करें।

मकखन : दूध :: किताब : ----

- A. लेखक
B. पेपर
C. पाठ
D. छपाई

Ans  1. D

 2. A

 3. C

 4. B

Question ID : 2055232865

Status : Answered

Chosen Option : 4

Q.86 निम्नलिखित विकल्पों में से उस एक को चुनें जो भिन्न है:

- A. रुपया
B. लीरा
C. सिक्का
D. दीनार

Ans  1. C

 2. A

 3. B

 4. D

Question ID : 2055232862

Status : Answered

Chosen Option : 1

Q.87 $[5.168 \times 4453 \times 3.194 / 67.999 \times 4224.017]$ का निकटतम मान जात कीजिए।

- A. 0.2
B. 0.002
C. 2
D. 0.02

Ans  1. C

 2. A

 3. B

 4. D

Question ID : 2055232838

Status : Not Attempted

Chosen Option : --

Q.88

Question ID : 2055232791

Status : Answered

कार रेसिंग ड्राइवर माइकेल शुमेकर (Michael Schumacher), किस देश के निवासी हैं?

Chosen Option : 2

- A. यूएसए
- B. जर्मनी
- C. कनाडा
- D. ऑस्ट्रेलिया

Ans  1. A
 2. C
 3. B
 4. D

Q.89 निम्नलिखित में से कौन सी श्रेणी, पुणे में विकसित भारत की सर्वप्रथम सुपर कंप्यूटर श्रेणी है?

Question ID : 2055232816

Status : Answered

Chosen Option : 1

- A. विज्ञान
- B. परम
- C. धनुष
- D. शक्ति

Ans  1. B
 2. D
 3. C
 4. A

Q.90 Tuberculosis के विरुद्ध मुख्यतया कौन सी वैक्सिन का प्रयोग किया जाता है?

Question ID : 2055232807

Status : Answered

Chosen Option : 2

- A. BCG
- B. DPT
- C. HiB
- D. वैरीसेल्ला (Varicella)

Ans  1. D
 2. A
 3. C
 4. B

Q.91 यदि GOAT को KSEX लिखा जा सकता है तो WOLF को लिखा जा सकता है: -----

Question ID : 2055232853

Status : Answered

Chosen Option : 1

- A. APJS
- B. AJSP
- C. ASPJ
- D. ASSJ

Ans  1. C
 2. A
 3. B
 4. D

Q.92 निम्नलिखित में से किस प्रधान मंत्री को भारत रत्न पुरस्कार दिया गया है?

Question ID : 2055232797

Status : Answered

Chosen Option : 3

- A. वी. पी. सिंह
- B. मोरारजी देसाई
- C. चरण सिंह
- D. मनमोहन सिंह

Ans  1. A

2. D

3. B

4. C

Q.93 मोहन एक जीस के अंकित मूल्य पर 15% की छूट देने के बाद 20% का लाभ कमाता है। जीस के क्रय मूल्य का अंकित मूल्य से अनुपात कितना है?

- A. 17:24
B. 17:34
C. 16:13
D. 21:23

Ans 1. C

2. A

3. D

4. B

Question ID : 2055232847

Status : Not Attempted

Chosen Option : --

Q.94 रेडियोसक्रियता (radioactivity) का आविष्कार किसने किया था?

- A. मैक्स प्लैंक (Max Planck)
B. जेम्स क्लर्क मैक्सवेल (James Clerk Maxwell)
C. हेनरी बेक्क्वरल (Henri Becquerel)
D. हीनरिच हर्ट्ज़ (Heinrich Hertz)

Ans 1. A

2. B

3. D

4. C

Question ID : 2055232803

Status : Answered

Chosen Option : 4

Q.95 10 प्रेक्षणों का माध्य 13 है। इनमें दो और प्रेक्षणों को जोड़ा जाता है और नया माध्य 14 हो जाता है। दो नये प्रेक्षणों का माध्य है:

- A. 19
B. 18
C. 17
D. 16

Ans 1. B

2. D

3. A

4. C

Question ID : 2055232844

Status : Not Attempted

Chosen Option : --

Q.96 निम्नलिखित में से विटामिन A का अच्छा स्रोत क्या है?

- A. पत्ता गोभी
B. गाजर
C. आलू
D. स्ट्रॉबेरी

Ans 1. D

2. C

3. B

4. A

Question ID : 2055232820

Status : Answered

Chosen Option : 3

Q.97 ----- से लेकर सूर्य तक की अनुमानित दूरी की लंबाई की यूनिट है।

- A. लाइट इयर्स (Light years)
- B. एस्ट्रोनॉमिकल यूनिट (Astronomical unit)
- C. केल्विन (Kelvin)
- D. जूल (Joule)

Ans 1. A
 2. D
 3. B
 4. C

Question ID : 2055232818

Status : Answered

Chosen Option : 1

Q.98 दिए गए गुणनफल $(4211)^{102} \times (361)^{52}$ में इकाई का अंक ज्ञात कीजिए।

- A. 3
- B. 1
- C. 4
- D. 7

Ans 1. D
 2. B
 3. C
 4. A

Question ID : 2055232837

Status : Not Attempted

Chosen Option : --

Q.99 एक धनराशि (P) 10 वर्षों में 2 गुनी हो जाती है। साधारण ब्याज की उसी दर पर यह धनराशि 20 वर्षों में कितनी हो जायेगी?

- A. P
- B. 2P
- C. 3P
- D. 4P

Ans 1. D
 2. A
 3. C
 4. B

Question ID : 2055232826

Status : Answered

Chosen Option : 1

Q.10 एक लड़का रेलगाड़ी में बैठा हुआ यह नोटिस करता है कि वह 60 सेकंड में 31 टेलीफोन के पोस्टों गिन सकता है। दो पोस्ट के बीच 60 मीटर की दूरी है तो रेलगाड़ी की गति क्या है?

- A. 90 कि.मी./घंटा
- B. 108 कि.मी./घंटा
- C. 60 कि.मी./घंटा
- D. 120 कि.मी./घंटा

Ans 1. D
 2. A
 3. B
 4. C

Question ID : 2055232849

Status : Answered

Chosen Option : 4



Railway Recruitment Board (RRB) NTPC Exams Study Kit	English	CLICK HERE
रेलवे भर्ती बोर्ड एनटीपीसी (NTPC) परीक्षा अध्ययन सामग्री	हिन्दी	CLICK HERE
RRB Loco Pilot (ALP) Exam Study Kit	English	CLICK HERE
रेलवे भर्ती बोर्ड लोको पायलट (ALP) परीक्षा अध्ययन सामग्री	हिन्दी	CLICK HERE
RRB Group-D Exam Study Kit	English	CLICK HERE
रेलवे भर्ती बोर्ड Group-D परीक्षा अध्ययन सामग्री	हिन्दी	CLICK HERE
Study Kit for RRB JE (Junior Engineer) Exam	English	CLICK HERE
आरआरबी जूनियर इंजीनियर परीक्षा (चरण -1) अध्ययन किट	हिन्दी	CLICK HERE
IAS EXAMS STUDY MATERIALS		
Study Kit for IAS (Pre) GENERAL STUDIES Paper-1 (GS)	English	CLICK HERE
Study Kit for IAS (Pre) CSAT Paper-2(Aptitude)	English	CLICK HERE
सामान्य अध्ययन (GS) प्रारंभिक परीक्षा (Pre) पेपर-1	हिन्दी	CLICK HERE
आई. ए. एस. (सी-सैट) प्रारंभिक परीक्षा पेपर -2	हिन्दी	CLICK HERE
Gist of NCERT Study Kit For UPSC Exams	English	CLICK HERE